



وزارة التربية
منطقة العاصمة التعليمية



وزارة التربية
منطقة العاصمة التعليمية

اسم الطالب:

الصفحة:


اختبار الفترة الدراسية الرابعة للعام الدراسي (٢٠١٣/٢٠١٤) م

المرحلة المتوسطة

hdrmishool.com

رقم السؤال	الدرجة	المصحح	المراجع
السؤال الأول			
السؤال الثاني			
السؤال الثالث			
السؤال الرابع			
السؤال الخامس			
السؤال السادس			
السؤال السابع			
السؤال الثامن			
السؤال التاسع			
السؤال العاشر			
المجموع			

** الدرجة بالحروف :



زمن الاختبار : ساعة و ٥٥ دقيقة
عدد الصفحات : (٥)

اختبار الفترة الدراسية الرابعة
للصف السابع المتوسط
في مادة الاجتماعيات
للعام الدراسي ٢٠١٢-٢٠١٣ م

وزارة التربية
الإدارة العامة لمنطقة العاصمة التعليمية
التوجيه الفني للاجتماعيات

السؤال الاول :- يتكون من (أ - ب - ج)

أ- أكمل العبارات التالية بكلمة مناسبة

- ١- أكثر دول الوطن العربي سكانا عام ٢٠٠٦ دولة تسمى
- ٢- تم تشكيل جامعة الدول العربية في ٢٢ مارس عام
- ٣- زيادة السكان الناتجة عن الهجرة تسمى
- ٤- تعرف المنظمة العربية للتربية والثقافة والعلوم باسم
- ٥- الثروات التي منحها الله لاقليم ما دون أن يكون للانسان اي دخل في وجودها تسمى

ب- صنف الكلمات التالية حسب مكانها المناسب بالجدول التالي :-

(موز- قمح - شعير - قطن - تمر - بن - العنب - ذرة - صمغ - ارز)

غلات صناعية تجارية	فواكه وثمار	حبوب غذائية

ج- صحح ما تحته خط في العبارات التالية بوضع الاجابة من بين القوسين :-

- ١- يتوزع سكان الوطن العربي في الجناح الافريقي بنسبة ٣٠% (.....)
- ٢- توجد محمية العرين في دولة عربية تسمى عمان (.....)
- ٣- الاسواق التي تحتل المكانة الاولى بالنسبة لتجارة الصادرات العربية هي الاسواق الامريكية (.....)
- ٤- انتقال السكان من القرى الى المدن يعرف باسم الهجرة المستمرة (.....)
- ٥- مؤتمر الامم المتحدة الذي عقد في البرازيل لمواجهة مشكلة التلوث في البيئة العالمية عرف باسم قمة البيئة (.....)

السؤال الثاني :- يتكون من (أ - ب - ج)

٣

أ) اختر من القائمة (أ) ما يناسبها من القائمة (ب) بوضع الرقم المناسب في مكان كتابة الرقم :-

القائمة (أ)	الرقم	القائمة (ب)
١-الصناعات الاستخراجية		صفائح النحاس وصهر الحديد
٢-الصناعات التعدينية		صناعة الفخار والسجاد
٣-الصناعات التحويلية		انتاج الفحم والنفط والغاز
		الصناعات الغذائية (الاجبان والحلويات)

ب- اكتب المصطلح العلمي الدال على العبارات التالية :-

٣

- ١- (.....) قوى محركة للالات وعنصر مهم للتقدم والتطور الاقتصادي في جميع المجالات
- ٢- (.....) التطور والتطوير والعملية التي تتطلب التخطيط والمشاركة من الجميع .
- ٣- (.....) توثيق الصلات بين الدول والشعوب العربية وحماية لمصالحها السياسية والاقتصادية والثقافية

hdrmischool.com

ج- أمامك خريطة الوطن العربي الصماء أقرأ الأرقام التالية الموضحة على الخريطة ثم اجب عن

الاسئلة التالية :-

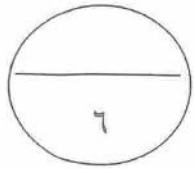
٤



- ١-الدولة العربية التي تحتل المرتبة الاولى في انتاج معدن الحديد تحمل الرقم (.....)
- ٢-الدولة العربية التي تحتل المرتبة الاولى في انتاج الذرة والارز والقمح تحمل الرقم (.....)
- ٣-الدولة العربية التي يجري بها نهر دجلة والفرات تحمل الرقم (.....)
- ٤-الدولة العربية التي تحتل المرتبة الاولى في تربية الابقار تحمل الرقم (.....)

٢٥

2



السؤال الثالث :- يتكون من (أ - ب)

أ- علل لما يلي (أذكر السبب) :-

١- احتل الأغانم العربية مكانا مهما ضمن الثروة الرعوية للوطن العربي .

.....*

.....*

٢- اهتمام الدول العربية بتحديث شبكة المواصلات .

.....*

٣- تنوع الثروة المائية في الوطن العربي .

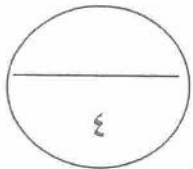
.....*

٤- إنشاء الصندوق الكويتي للتنمية الاقتصادية العربية .

.....*

.....*

ب- قارن بين كل من منظمة الاوبك ومنظمة الاوابك من حيث (المقر والهدف من تاسيسها) :-



الاوابك	الاوبك	وجه المقارنة
.....	المقر
.....	الهدف من تاسيسها

السؤال الرابع يتكون من (أ - ب)

1- انظر الصورة التي أمامك ثم كون فقرة مختصرة عن المنظمة التي يمثلها الشعار

على أن تتضمن

(اسم المنظمة - تاريخ الانشاء - عدد الدول الاعضاء مع كتابة اسمانهم) .



..... *

..... *

..... *

hdrmschool.com

تواصل

ب- "يقع الوطن العربي في المناطق الجافة وشبه الجافة الأمر الذي يعرضه إلى مشكلة التصحر وخاصة في السودان والصومال وموريتانيا

1- ما المقصود بالتصحر؟

مدرسة العلاء بن الحضرمي

2- ما أسباب مشكلة التصحر؟

(أ) (ب)

3- ما هي طرق علاج التصحر



(أ) (ب)

4

4

السؤال الخامس يتكون من (أ - ب)

أ- انظر الصور التالية ثم ميز بين كل نوع من أنواع التلوث الموضحة بالصور حسب الجدول

		وجه التمييز
.....	نوع التلوث
.....	سبب حدوثه

hdrmishool.com

تواصل

ب- عرف المفاهيم التالية :-
مدرسة العلاء بن الحضرمي

١- الاحصاء الحيوي :

٢- الغاز الطبيعي :

٣- التنمية المستدامة :

٢٥

مع تمنياتنا لكم بالتوفيق والنجاح ،،،



وزارة التربية

الإدارة العامة لمنطقة العاصمة التعليمية

٧ اجتهاد عيسى

hdrmischool.com

نواصل

مدرسة العلاء بن الحضرمي

الاجتهاد

زمن الاختبار : ساعة و ٥٥ دقيقة
عدد الصفحات : (٥)

(نموذج الإجابة)
اختبار الفترة الدراسية الرابعة
للصف السابع المتوسط
في مادة الاجتماعيات
للعام الدراسي ٢٠١٢-٢٠١٣ م

وزارة التربية
الإدارة العامة لمنطقة العاصمة التعليمية
التوجيه الفني للاجتماعيات

السؤال الاول :- يتكون من (أ - ب - ج)

أ- أكمل العبارات التالية بكلمة منا

- ١- أكثر دول الوطن العربي سكانا دولة عام ٢٠٠٦ تسمى مصر... ص ٧٤
٢- تم تشكيل جامعة الدول العربية في ٢٢ مارس عام ١٩٤٥ .. ص ١٣٩
٣- زيادة السكان الناتجة عن الهجرة تسمى زيادة غير طبيعية... ص ٨٠
٤- تعرف المنظمة العربية للتربية والثقافة والعلوم باسم الكسو... ص ١٤٣
٥- الثروات التي منحها الله لاقليم ما دون أن يكون للانسان ابي دخل في وجودها تسمى ... الثروات الطبيعية.. ص ٨١

ب- صنف الكلمات التالية حسب مكانها المناسب بالجدول التالي :- ص ٨٤

(موز- قمح - شعير - قطن - تمر - بن - العنب - ذرة - صمغ - ارز)

حبوب غذائية	فواكه وثمار	غلات صناعية تجارية
قمح - شعير - ذرة - ارز	العنب - تمر - موز	بن - صمغ - قطن

ج- صحح ما تحته خط في العبارات التالية بوضع الإجابة من بين القوسين :-

- ١- يتوزع سكان الوطن العربي في الجناح الافريقي بنسبة ٣٠% ص ٧٣ (.....%٧٠....)
٢- توجد محمية العرين في دولة عربية تسمى عمان ص ١٣٢ (.....البحرين.....)
٣- الاسواق التي تحتل المكانة الاولى بالنسبة لتجارة الصادرات العربية هي الاسواق الامريكية ص ١١٧ (.....الاوروبية.....)
٤- انتقل السكان من القرى الى المدن يعرف باسم الهجرة المستمرة ص ٨٠ (.....داخلية.)
٥- مؤتمر الامم المتحدة الذي عقد في البرازيل لمواجهة مشكلة التلوث في البيئة العالمية عرف باسم قمة البيئة (.....قمة الارض.....)

السؤال الثاني :- يتكون من (أ - ب - ج) ص ١٠٩

٣

أ) اختر من القائمة (أ) ما يناسبها من القائمة (ب) بوضع الرقم المناسب في مكان كتابة الرقم :-

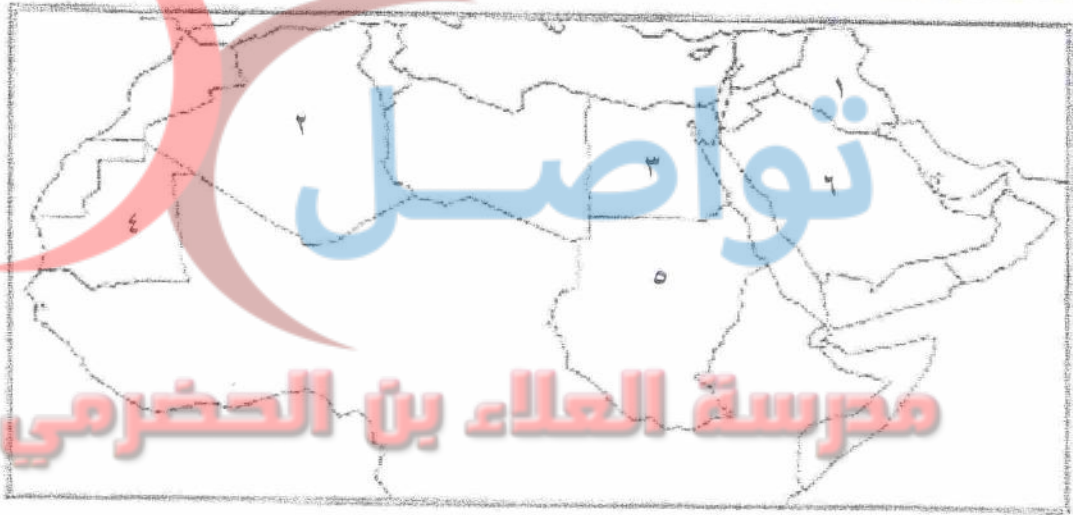
القائمة (أ)	الرقم	القائمة (ب)
١-الصناعات الاستخراجية	٢	صفائح النحاس وصهر الحديد
٢-الصناعات التعدينية		صناعة الفخار والسجاد
٣-الصناعات التحويلية	١	انتاج الفحم والنفط والغاز
	٣	الصناعات الغذائية (الاجبان والحلويات)

ب- اكتب المصطلح العلمي الدال على العبارات التالية :-

- ١- (الطاقة..) قوى محركة للالات وعنصر مهم للتقدم والتطور الاقتصادي في جميع المجالات
- ٢- (...التنمية.) التطور والتطوير والعملية التي تتطلب التخطيط والمشاركة من الجميع .
- ٣- (...التضامن العربي.) توثيق الصلات بين الدول والشعوب العربية وحماية لمصالحها السياسية والاقتصادية والثقافية

٣

ج- أمامك خريطة الوطن العربي الصماء أقرأ الأرقام التالية الموضحة على الخريطة ثم اجب عن الاسئلة التالية :-



٤

- ١- الدولة العربية التي تحتل المرتبة الاولى في انتاج معدن الحديد تحمل الرقم (...٤...)
- ٢- الدولة العربية التي تحتل المرتبة الاولى في انتاج الذرة والارز والقمح تحمل الرقم (...٣...)
- ٣- الدولة العربية التي يجري بها نهري دجلة والفرات تحمل الرقم (...١...)
- ٤- الدولة العربية التي تحتل المرتبة الاولى في تربية الابقار تحمل الرقم (...٥...)

٢٥

2

السؤال الثالث :- يتكون من (أ - ب)

أ- علل لما يلي (أذكر السبب) :-

١- احتل الأغانم العربية مكانا مهما ضمن الثروة الرعوية للوطن العربي . ص ٩٢

* أهمية منتجاتها بالنسبة للسكان.....

* مصدر أساسي من مصادر الثروة القومية.....

٢- اهتمام الدول العربية بتحديث شبكة المواصلات . ص ١١٣

* تحقيق التطلعات المستقبلية.....

٣- تنوع الثروة المائية في الوطن العربي . ص ٩٣

* لان دول الوطن العربي لها سواحل ومسطحات مائية واسعة منها المالحة ومنها العذبة....

٤- انشاء الصندوق الكويتي للتنمية الاقتصادية العربية . ص ١٤٤

* تقديم القروض الميسرة للدول المحتاجة.....

* المساهمة في تطوير التنمية في الوطن العربي والعالم الاسلامي.....

ب- قارن بين كل من منظمة الاوبك ومنظمة الاوابك من حيث (المقر والهدف من تاسيسها) :-

ص ١٠٤ - ١٠٥

نواصل

وجه المقارنة	الايوبك	الواوبك
المقر	فيينا	الكويت
الهدف من تاسيسها	استقرار اسعار النفط في الاسواق العالمية.....	تأمين وصول النفط الى الاسواق الاستهلاكية.....

السؤال الرابع يتكون من (أ - ب)

٣
١- انظر الصورة التي أمامك ثم كون فقرة مختصرة عن المنظمة التي يمثلها الشاعر
على أن تتضمن

(اسم المنظمة - تاريخ الانشاء - عدد الدول الاعضاء مع كتابة اسمائهم) . ص ١٤٢



*-مجلس التعاون لدول الخليج العربية

*- ٢٥ مايو ١٩٨١

*- (٦ دول الكويت . البحرين . عمان . قطر . السعودية . الامارات .)

hdrmischool.com

٥
ب- "يقع الوطن العربي في المناطق الجافة وشبه الجافة الأمر الذي يعرضه إلى مشكلة
التصحّر وخاصة في السودان والصومال وموريتانيا ص-١٢٢

١- ما المقصود بالتصحّر ؟ زحف رمال الصحراء على المناطق الجافة وشبه جافة

٢- ما أسباب مشكلة التصحر ؟ (أ) بشرية (ب) طبيعية

٣- ما هي طرق علاج التصحر (أ) تشجير بعض المناطق (ب) إقامة المحميات الطبيعية (وكل ما يراه المعلم صحيح)

السؤال الخامس يتكون من (أ - ب) ص ١٣٠

٤

أ- انظر الصور التالية ثم ميز بين كل نوع من أنواع التلوث الموضحة بالصور حسب الجدول

		وجه التمييز
تلوث الهواء	تلوث التربة	نوع التلوث
انتشار الدخان وعادم السيارات	الإسراف في استخدام المبيدات	سبب حدوثه

٣

ب- عرف المفاهيم التالية :-

١- الاحصاء الحيوي : تسجيل المواليد والوفيات وحالات الزواج والطلاق ونحصل على بياناتها من واقع

السجلات الرسمية للدولة ص ٧٣

٢- الغاز الطبيعي : غاز مصاحب للنفط الخام او يتواجد منفردا تتم اسالته لاستخدامات عديدة ص ٩٧

٣- التنمية المستدامة: برامج تحسين نوعية الحياة ص ١٣٨

٢٥

مع تمنياتنا لكم بالتوفيق والنجاح ،،،