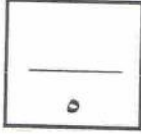


الزمن : ساعة ونصف  
عدد الصفحات : ( ٥ )  
للعام الدراسي : ٢٠١٢/٢٠١٣م

امتحان الفترة الدراسية الرابعة  
للمصف السادس المتوسط  
في مادة الاجتماعيات

وزارة التربية  
الإدارة العامة لمنطقة العاصمة التعليمية  
التوجيه الفني لمادة الاجتماعيات



السؤال الأول :- يتكون من ( أ - ب ) :  
( أ ) اختر البديل المناسب من بين البدائل التي تلي كل عبارة :

١- أعلى نسبة للسكان المواطنين وفقا لإحصاء ٢٠٠٦م توجد في دولة خليجية اسمها :

دولة الإمارات	دولة الكويت	دولة قطر	المملكة العربية السعودية
---------------	-------------	----------	--------------------------

٢- تعتبر البراكين والعواصف الترابية من مصادر التلوث :

التلوث المائي	التلوث الضوضائي	التلوث الهوائي	التلوث الأرضي
---------------	-----------------	----------------	---------------

٣- بدأ التنقيب عن النفط بدولة الكويت في عام :

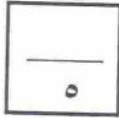
١٩٣٢	١٩٣٤	١٩٣٦	١٩٣٨
------	------	------	------

٤- كانت هجرة المعاضيد إلى دولة اسمها :

قطر	أبوظبي	رأس الخيمة	البحرين
-----	--------	------------	---------

٥- نجحت المملكة العربية السعودية في إنتاج محصول :

الذرة	القمح	الأرز	الشعير
-------	-------	-------	--------



( ب )- صح ما تحته خط واكتب الإجابة الصحيحة فيما بين القوسين :

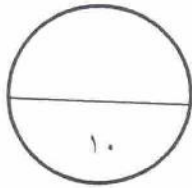
١- أكبر دولة في عدد السكان في العالم عام ٢٠٠٥م اسمها الفايكان . ( ..... )

٢- بلغ عدد الآبار النفطية التي أشعلها النظام العراقي البائد حوالي ٧٣٣ . ( ..... )

٣- أعلى دولة خليجية في نسبة الطلاق تسمى الكويت . ( ..... )

٤- مقر مكتب التربية العربي لدول الخليج العربية في مدينة تسمى أبو ظبي . ( ..... )

٥- الدولة الخليجية التي تتركز فيها صناعة النحاس تسمى قطر . ( ..... )



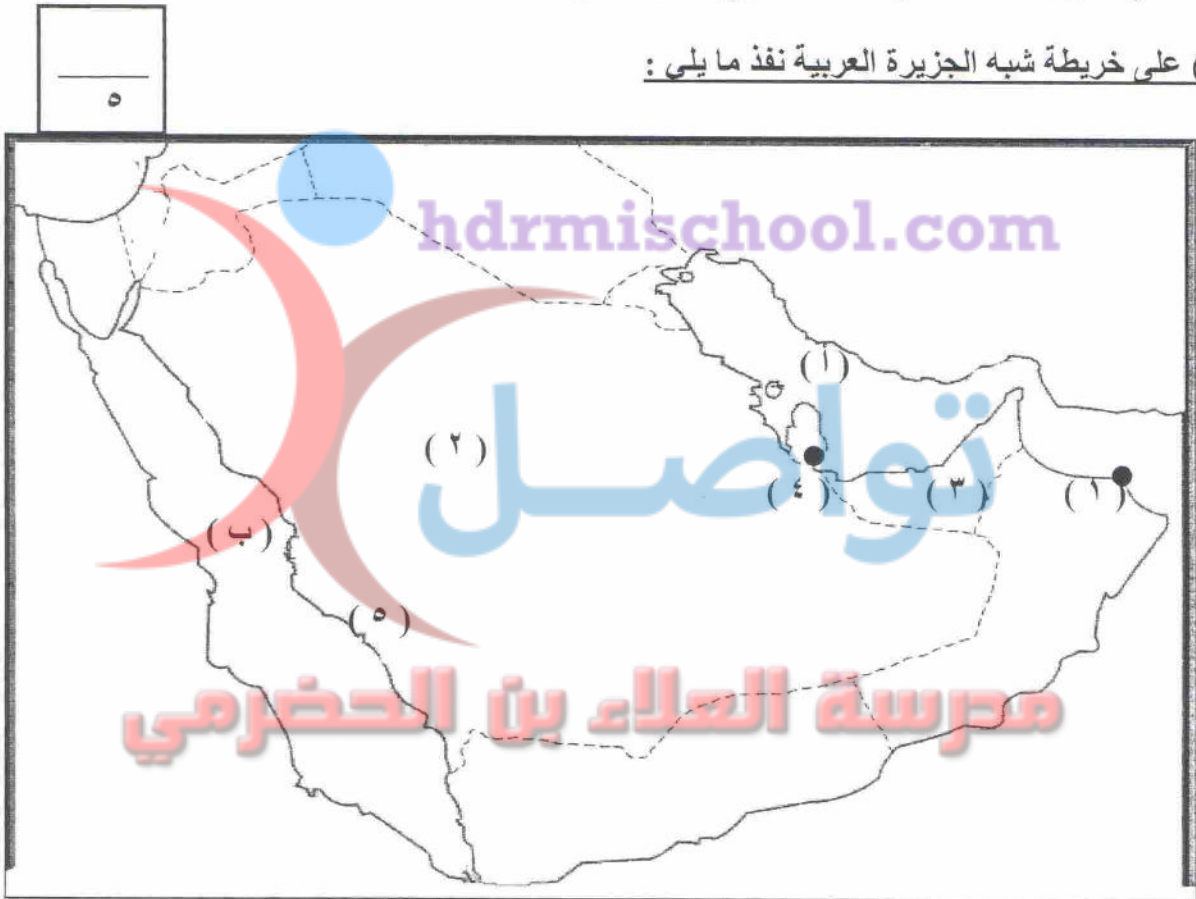
السؤال الثاني : يتكون من ( أ - ب )

٥

( أ ) أكمل الفراغات في العبارات التالية بما يناسبها :-

- ١- أكثر دولة خليجية في الكثافة السكانية هي دولة اسمها .....
- ٢- طريقة زراعة الخضروات في غير مواسمها والقيام بحماية المحاصيل من تقلبات الطقس تسمى .....
- ٣- طبقة في الغلاف الجوي تعتبر درع واقى للاحياء ضد خطر الأشعة فوق البنفسجية تسمى .....
- ٤- تحويل المواد الخام إلى مواد مصنعة يمكن الاستفادة منها تسمى .....
- ٥- تنتمي اصول السلاطات في منطقة الخليج العربية إلى البحر المتوسط و .....

( ب ) على خريطة شبه الجزيرة العربية نفذ ما يلي :



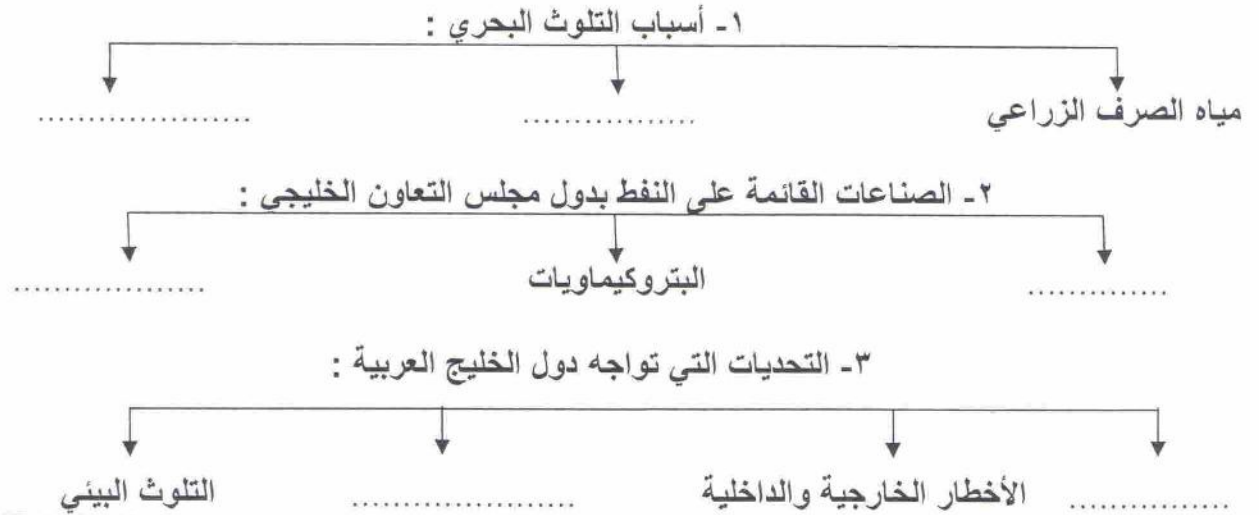
- \* حضارة هيلي يمثلها على الخريطة الرقم ( )
- \* سهل تهامة يمثلها على الخريطة الرقم ( )
- \* ظلل دولة الكويت على الخريطة .
- \* ميناء الفحل يمثلها على الخريطة الرقم ( )
- \* البحر الأحمر يمثل على الخريطة بالحرف ( )

١٠

السؤال الثالث : ( أ - ب - ج )

( أ ) أكمل المخطط السهمي التالي :

3



2

( ب ) صف العبارات التالية بما يناسبها في الجدول التالي :

زيادة التبادل التجاري - مناصرة القضايا العادلة - توحيد المناهج - المناورات العسكرية

مجال التعاون الاقتصادي	مجال التعاون السياسي	مجال التعاون الثقافي	مجال التعاون العسكري

5

( ج ) اختر ( أ ) إذا كانت الحقيقة صحيحة و ( ب ) إذا كانت الحقيقة خاطئة :

- ١- وقعت حادثة الشعبية الصناعية بدولة الكويت نتيجة زيادة تركيز غاز ثاني أكسيد الكبريت . ( أ ) ( ب )
- ٢- سلوك عدواني تدميري يتسم بالتخريب والتدمير يعرف بالعنف . ( أ ) ( ب )
- ٣- تم إنشاء قوات درع الجزيرة عام ١٩٨٢ م . ( أ ) ( ب )
- ٤- هاجرت قبيلة بني ياس إلى قطر . ( أ ) ( ب )
- ٥- ظهرت حضارة دلمون في دولة البحرين . ( أ ) ( ب )

10

السؤال الرابع : يتكون من ( أ - ب - ج ) :

5
---

( أ ) عرف ما يلي :

- ١- الثقافة : .....
- ٢- الدخل القومي : .....
- ٣- الترانزيت : .....
- ٤- التلوث : .....
- ٥- الكثافة السكانية : .....

3
---

( ب ) علل لما يلي :

- ١- ظهرت الحاجة إلى إقامة العديد من الموانئ النفطية .  
أ- .....
- ب- .....
- ٢- عدد السكان في دولة الكويت ودول الخليج العربية في تزايد مستمر .  
أ- .....
- ب- .....
- ٣- ارتفاع نسبة الطلاق بدول الخليج العربية .  
أ- .....
- ب- .....

2
---

( ج ) قارن بين التلوث الضوضائي والتلوث الأرضي حسب المطلوب في الجدول التالي :

وجه المقارنة	التلوث الضوضائي	التلوث الأرضي ( التربة )
التعريف	* .....	* .....
الآثار المترتبة	* .....	* .....

10
----



السؤال الخامس : يتكون من ( أ - ب - ج )

( أ ) فرق بين كلا من :

الواردات	الصادرات
.....*	.....*
احتياطي النفط	انتاج النفط
.....*	.....*

( ب ) - اكتب فيما يلي :

١ - التشابه الثقافي بين سكان دول الخليج العربية .

أ- .....

ب- .....

٢ - عدد مظاهر التلوث الناجمة عن الغزو العراقي لدولة الكويت .

أ- .....

ب- .....

( ج ) أقرأ الفقرة التالية جيداً ومن ثم أجب عما يليها من أسئلة :

" تنتج المشاكل من بعض الخدمات ( العمالة المنزلية ) اللاني يعلمن الأطفال الصغار ألفاظاً سيئة أو عبارات ذات ثقافة مختلفة لعاداتنا وتقاليدنا ولا تنتمي لمجتمعاتنا الإسلامية بصلة حتى يتربى الطفل الصغير عليها ويتعود على ذلك خصوصاً أنه في مرحلة الطفولة ولديه استعداداً لتقبل أي شيء ، ويتربى عليها الطفل مع الوقت مما يصعب تعديله إذا كبر ."

١ - عرف ما تحته خط :

\*العمالة المنزلية :

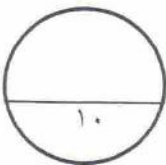
٢ - أذكر بعض العادات السيئة التي يكتسبها الأطفال من بعض الخدمات ؟

أ- .....

ب- .....

٣ - إقترح حلاً مناسباً لمشكلة العمالة المنزلية ؟

أ- .....





وزارة التربية

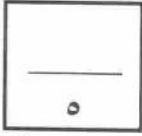
الإدارة العامة لمنطقة العاصمة التعليمية

ح. اجتماعي

تواصل

مدرسة العلاء بن الحضرمي

## نموذج الإجابة

امتحان الفترة الدراسية الرابعة  
للمصف السادس المتوسط  
في مادة الاجتماعياتالزمن : ساعة ونصف  
عدد الصفحات : ( ٥ )  
للعام الدراسي : ٢٠١٢/٢٠١٣مالسؤال الأول :- يتكون من ( أ - ب ) :  
( أ ) اختر البديل المناسب من بين البدائل التي تلي كل عبارة :

١- أعلى نسبة للسكان المواطنين وفقاً لإحصاء ٢٠٠٦م توجد في دولة خليجية اسمها : ص ٩٧

دولة الإمارات	دولة الكويت	دولة قطر	المملكة العربية السعودية
---------------	-------------	----------	--------------------------

٢- تعتبر البراكين والعواصف الترابية من مصادر التلوث : ص ١١٨

التلوث المائي	التلوث الضوضائي	التلوث الهوائي	التلوث الأرضي
---------------	-----------------	----------------	---------------

٣- بدأ التنقيب عن النفط بدولة الكويت في عام : ص ٧٧

١٩٣٢	١٩٣٤	١٩٣٦	١٩٣٨
------	------	------	------

٤- كانت هجرة المعاضيد إلى دولة اسمها : ص ٩٣

قطر	أبوظبي	رأس الخيمة	البحرين
-----	--------	------------	---------

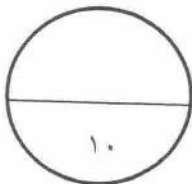
٥- نجحت المملكة العربية السعودية في إنتاج محصول : ص ٨١

الذرة	القمح	الأرز	الشعير
-------	-------	-------	--------



( ب ) - صح ما تحته خط واكتب الإجابة الصحيحة فيما بين القوسين :

- ١- أكبر دولة في عدد السكان في العالم عام ٢٠٠٥م اسمها الفاتيكان . ص ٩٥ ( الصين )
- ٢- بلغ عدد الآبار النفطية التي أشعلها النظام العراقي البائد حوالي ٧٣٣ . ص ١٢٣ ( ٧٣٧ )
- ٣- أعلى دولة خليجية في نسبة الطلاق تسمى الكويت . ص ١٣٥ ( المملكة العربية السعودية )
- ٤- مقر مكتب التربية العربي لدول الخليج العربية في مدينة تسمى أبوظبي . ص ١١٤ ( الرياض )
- ٥- الدولة الخليجية التي تتركز فيها صناعة النحاس تسمى قطر . ص ٨٥ ( سلطنة عمان )





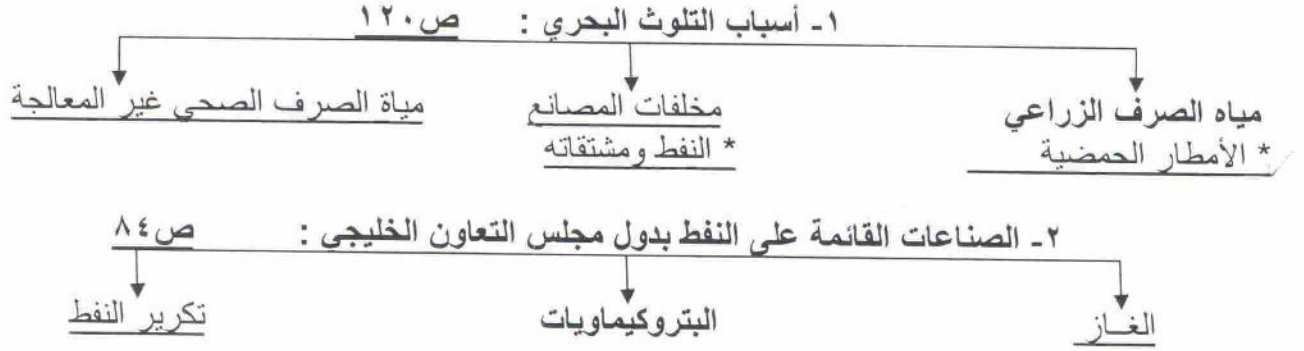


السؤال الثالث : ( أ - ب - ج )

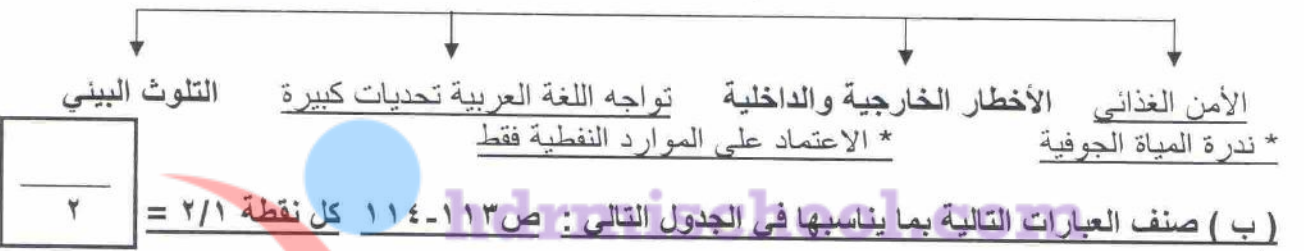
3

كل نقطة ٢/١ درجة =

( أ ) أكمل المخطط السهمي التالي :



٣- التحديات التي تواجه دول الخليج العربية : ص ١١٦



زيادة التبادل التجاري - مناصرة القضايا العادلة - توحيد المناهج - المناورات العسكرية

مجال التعاون العسكري	مجال التعاون الثقافي	مجال التعاون السياسي	مجال التعاون الاقتصادي
المناورات العسكرية	توحيد المناهج	مناصرة القضايا العادلة	زيادة التبادل التجاري

٥

( ج ) اختر ( أ ) إذا كانت الحقيقة صحيحة و( ب ) إذا كانت الحقيقة خاطئة :

- ١- وقعت حادثة الشعبية الصناعية بدولة الكويت نتيجة زيادة تركيز غاز ثاني أكسيد الكبريت . ص ١١٩
- ٢- سلوك عدواني تدميري يتسم بالتخريب والتدمير يعرف بالعنف . ص ١٢٩
- ٣- تم إنشاء قوات درع الجزيرة عام ١٩٨٢ م . ص ١١٤
- ٤- هاجرت قبيلة بني ياس إلى قطر . ص ٩٣
- ٥- ظهرت حضارة دلمون في دولة البحرين . ص ٩١

١٠

السؤال الرابع : يتكون من ( أ - ب - ج ) :

٥

( أ ) عرف ما يلي : ( لكل مفهوم درجة واحدة )

١- الثقافة : هي مجموعة من العادات والتقاليد والأخلاقيات في مجتمع من المجتمعات . ص ١٠٣

٢- الدخل القومي : هو مجموع الدخل التي تحصل عليها الدولة خلال عام . ص ٨٤

٣- الترانزيت : اعادة تصدير البضائع المستوردة . ص ٨٧

٤- التلوث : هو الضرر الذي يصيب عناصر البيئة الأساسية فتتحول من عناصر مفيدة إلى عناصر ضارة .

ص ١١٧

٥- الكثافة السكانية : عدد السكان في الكيلو متر مربع وتقاس بقسمة عدد السكان على مساحة الدولة . ص ٩٩

٣

( ب ) علل لما يلي : ( يكتفى بنقطتين لكلا منهم )

١- ظهرت الحاجة إلى إقامة العديد من الموانئ النفطية . ص ٨٠ كل نقطة ٢/١ درجة = ٣  
أ- نتيجة لتزايد الانتاج الخليجي للنفط من الحقول البرية والبحرية .  
ب-تزايد الطلب العالمي عليه كمصدر أساسي للطاقة .

٢- عدد السكان في دولة الكويت ودول الخليج العربية في تزايد مستمر . ص ٩٥  
أ- الزيادة الطبيعية ( عدد المواليد + عدد الوفيات ) .  
ب- الزيادة غير الطبيعية ( بسبب الهجرة ) .

٣- ارتفاع نسبة الطلاق بدول الخليج العربية . ص ١٣٥  
أ- انتشار قلة الوعي بأهمية الحياة الأسرية ومسؤولياتها . \* ازدياد حالات الزواج في سن مبكرة .  
ب- ارتفاع تكاليف الزواج . \* عدم القدرة على إحتواء المشاكل الأسرية .

٢

( ج ) قارن بين التلوث الضوضائي والتلوث الأرضي حسب المطلوب في الجدول التالي :  
ص ١١٧-١١٨ كل نقطة ٢/١ درجة = ٢

وجه المقارنة	التلوث الضوضائي	التلوث الأرضي ( التربة )
التعريف	* تفسد طبيعة الهواء من هواء هادىء مفيد إلى هواء مزعج ضار .	* دخول مواد غريبة في التربة مما يلحق الضرر في خواصها ومكوناتها .
الآثار المترتبة	* أخطار مرضية نفسية وجسمانية تصيب الانسان .	* ضعف قدرة التربة على الإنتاج الزراعي . * تلوث التربة يؤدي إلى تلوث الزراعة مما يؤثر على حياة الإنسان .

١٠

السؤال الخامس : يتكون من ( أ - ب - ج )

( أ ) فرق بين كلا من :

الواردات	الصادرات
ص ٨٧	ص ٨٧
*البضائع والسلع التي تشتريها دولنا من الخارج	*السلع والمنتجات التي تبيعها دولنا في الخارج
ص ٧٨ احتياطي النفط	ص ٧٨ انتاج النفط
*كميات النفط المخزونه في باطن الأرض	*كميات النفط التي يتم استخراجها للاستفادة منها

( ب )- اكتب فيما يلي : ( يكتفى بنقطتين لكلا منها )

٢

- ١- التشابه الثقافي بين سكان دول الخليج العربية . ص ١٠٢-١٠٤ كل نقطة ٢/١ درجة =  
أ- وحدة الأصل \* العادات والتقاليد  
ب- الدين \* اللغة \* التاريخ المشترك
- ٢- عدد مظاهر التلوث الناجمة عن الغزو العراقي لدولة الكويت . ص ١٢٣  
أ- تفجير واحراق معظم الآبار النفطية \* تأثير الدخان على صحة الإنسان والكائنات الحية  
ب-ضخ النفط متعمد في مياه البحر \* تدمير الحياة الفطرية \* تساقط الرذاذ النفطي

( ج ) أقرأ الفقرة التالية جيداً ومن ثم أجب عما يليها من أسئلة :

" تنتج المشاكل من بعض الخادمت ( العمالة المنزلية ) اللاني يعلمن الأطفال الصغار ألفاظاً سيئة أو عبارات ذات ثقافة مختلفة لعاداتنا وتقاليدنا ولا تنتمي لمجتمعاتنا الإسلامية بصلة حتى يتربى الطفل الصغير عليها ويتعود على ذلك خصوصاً أنه في مرحلة الطفولة ولديه استعداداً لتقبل أي شيء ، ويتربى عليها الطفل مع الوقت مما يصعب تعديله إذا كبر "

- ١- عرف ما تحته خط : ( درجة واحدة ) ص ١٢٦  
\*العمالة المنزلية : مجموعة من الأفراد الذين يشاركون الأسرة في دور أو أكثر داخل المنزل أو خارجه من المربيات والطباخين والسائقين والخدم .
- ٢- أذكر بعض العادات السيئة التي يكتسبها الأطفال من بعض الخادمت ؟ ( كل نقطة درجة = درجتان ) ص ١٢٧  
أ- يعلمن الأطفال الصغار ألفاظاً سيئة .  
ب- يعلمن الأطفال الصغار عبارات ذات ثقافة مخالفة لعاداتنا وتقاليدنا ولا تنتمي لمجتمعاتنا الإسلامية بصلة حتى يتربى الطفل الصغير عليها .
- ٣- إقترح حلاً مناسباً لمشكلة العمالة المنزلية ؟ ( يكتفى بنقطة واحدة = درجة ) ص ١٣٧  
أ- الإهتمام الجاد بالقرآن الكريم والسنة النبوية . \* يتحمل كل فرد في الأسرة مسؤوليته والقيام بدوره خير قيام .  
\* جعل مهمة الخادم مقتصرة على ممارسة دوره الأساسي في المساهمة في تحمل أعباء المنزل لا غير .

١٠