


دفتر الأنشطة

في مادة الاجتماعيات للصف الثامن الأساسي



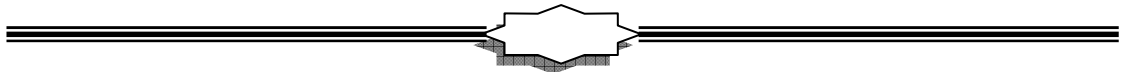
إعداد مدرس المادة

الأستاذ

خالد مطهر حسين العدواني

kadwany@gmail.com

kadwany@hotmail.com



نشاط رقم (١):

بالاعتماد على خرائط الوحدة الأولى (لقارات العالم) أكمل بيانات الجدول الآتي:

م	قارات العالم	مساحة كل قارة مليون كم ^٢	ترتيب القارات من حيث المساحة (تصاعدياً) الأصغر - الأكبر	الموقع بالنسبة لخط الاستواء (شمال أم جنوب)	الموقع بالنسبة لخط غرينتش (شرق أم غرب)	مساحتها إلى مساحة اليابسة ٪
١						
٢						
٣						
٤						
٥						
٦						
٧						

نشاط رقم (٢):

بالاعتماد على خريطة العالم السياسية أكمل بيانات الجدول الآتي:

قارات العالم القديم	عدد الدول في القارة	سمّ دولة قارية فيها	قارات العالم الجديد	عدد الدول في القارة	سمّ دولة قارية فيها

نشاط رقم (٣):

بالاعتماد على خريطة توزيع المحيطات أكمل بيانات الجدول الآتي:

اسم المحيط	مساحته .. مليون كم ^٢	موقعه



نشاط رقم (٤):

بالاعتماد على معلومات الكتاب في الدرس الثاني من الوحدة الأولى أكمل بيانات الجدول الآتي:

أنواع البحار	تعريفها	أمثله لها	موقعها

نشاط رقم (٥):

استخرج من خريطة التيارات البحرية الرئيسية في العالم بيانات الجدول الآتي:

م	اسم التيار	نوعه (حار - بارد)	المحيط الذي يوجد فيه	اتجاه حركته
١				
٢				
٣				
٤				
٥				
٦				
٧				
٨				
٩				
١٠				

نشاط رقم (٦):

ارجع إلى أحد تفاسير القرآن الكريم ثم أكتب تفسير الآية القرآنية التالية:

قَالَ تَعَالَى: ﴿ وَهُوَ الَّذِي سَخَّرَ الْبَحْرَ لِتَأْكُلُوا مِنْهُ لَحْمًا طَرِيًّا وَتَسْتَخْرِجُوا مِنْهُ حِلْيَةً

تَلْبَسُونَهَا وَتَرَى الْفُلْكَ مَوَاجِرَ فِيهِ وَلِتَبْتَغُوا مِنْ فَضْلِهِ وَلِعَلَّكُمْ تَشْكُرُونَ ﴿١٤﴾

النحل: ١٤



نشاط رقم (٧):

استخرج من خريطة تضاريس قارة آسيا بيانات الجدول الآتي:

أهم القمم		السهول	الهضاب	المرتفعات الجبلية
ارتفاعها (متر)	اسم القمة			

نشاط رقم (٨):

بالاعتماد على خريطة المناطق المناخية في آسيا ومعلومات الكتاب في الدرس الأول من الوحدة الثانية أكمل بيانات الجدول الآتي:

موقعه في القارة	خصائصه			الإقليم المناخي
	الغطاء النباتي	الأمطار	الحرارة	

نشاط رقم (٩):

ابحث عن تفسير الآية القرآنية التالي في أحد التفاسير مبيناً نظرة الإسلام للأعراق والأجناس البشرية:

قَالَ تَعَالَى: ﴿يَا أَيُّهَا النَّاسُ إِنَّا خَلَقْنَاكُمْ مِنْ ذَكَرٍ وَأُنْثَىٰ وَجَعَلْنَاكُمْ شُعُوبًا وَقَبَائِلَ لِتَعَارَفُوا إِنَّ أَكْرَمَكُمْ

عِنْدَ اللَّهِ أَتَقْوَمُ إِنَّ اللَّهَ عَلِيمٌ خَبِيرٌ ﴿١٣﴾ الحجرات: ١٣



نشاط رقم (١٠):

بالاعتماد على خريطة التوزيع السكاني في قارة آسيا ومعلومات الكتاب في الدرس الأول من الوحدة الثانية أكمل بيانات الجدول الآتي:

نوع الكثافة السكانية	نسبتها	موقعها	الدول التي تمثلها	العوامل المؤثرة عليها
مرتفعة				
متوسطة				
منخفضة				
نادرة				

نشاط رقم (١١):

ارسم شكلاً بيانياً يمثل نمو السكان في الجمهورية اليمنية بالاعتماد على بيانات الجدول التالي:

السنة	٢٠٠٠	٢٠٠٤	٢٠٠٨	٢٠١٠	٢٠١٢
عدد السكان بالمليون نسمة	١٨	٢٠	٢٢	٢٤	٢٨



نشاط رقم (١) :

صنف الموارد الطبيعية الآتية إلى موارد متجددة وغير متجددة وضعها في الجدول الذي يليها:

التربة - الغاز - الثروة الحيوانية - الغابات - الزراعة - مياه الأنهار - النفط - الطاقة الشمسية - الحديد - الرياح - الفحم الحجري - الثروة السمكية

الموارد الطبيعية		
الغير متجددة		المتجددة

النشاط رقم (٢):

أكمل الجدول بتحديد مناطق الكثافة السكانية في قارة استراليا:

المنطقة	الكثافة
	الكثافة العالية
	الكثافة المتوسطة
	الكثافة المنخفضة

نشاط رقم (٣):

حدد على الجدول الآتي الترتيب العالمي والأوروبي لجمهورية ألمانيا فيما يأتي:

الترتيب		ألمانيا
الأوروبي	العالمي	
		إنتاج القمح
		السيارات
		القوة الاقتصادية
		الشعير
		الشمندر



نشاط رقم (٤):

أكمل الجدول الآتي بتحديد الأقاليم المناخية ومناطقها في أستراليا:

المنطقة	المناخ السائد فيها
الأجزاء الداخلية	
الساحل الشمالي	
الساحل الجنوبي	
نيوزيلندا	
غينيا الجديدة	
الساحل الشرقي	

نشاط رقم (٥):

حدد على خارطة أستراليا الصماء الآتية ما يأتي:

- ١- نيوزيلندا
- ٢- تسمانيا
- ٣- مدينة سدني
- ٤- مدينة بيرث
- ٥- التيارات البحرية الحارة
- ٦- إقليم المناخ الاستوائي



نشاط رقم (٦):

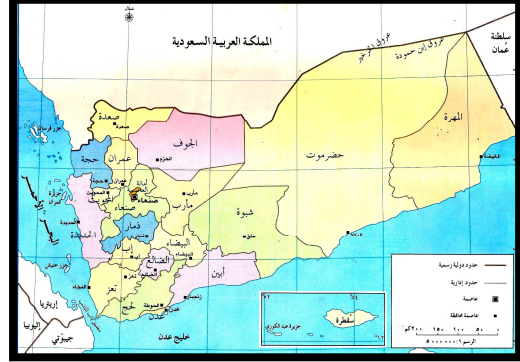
سمّ ثلاثة لكل مما يأتي:

			بحار في أوروبا
			جزر في أوروبا
			جزر تابعة لقارة أستراليا
			مدن في قارة أستراليا



نشاط رقم (٧):

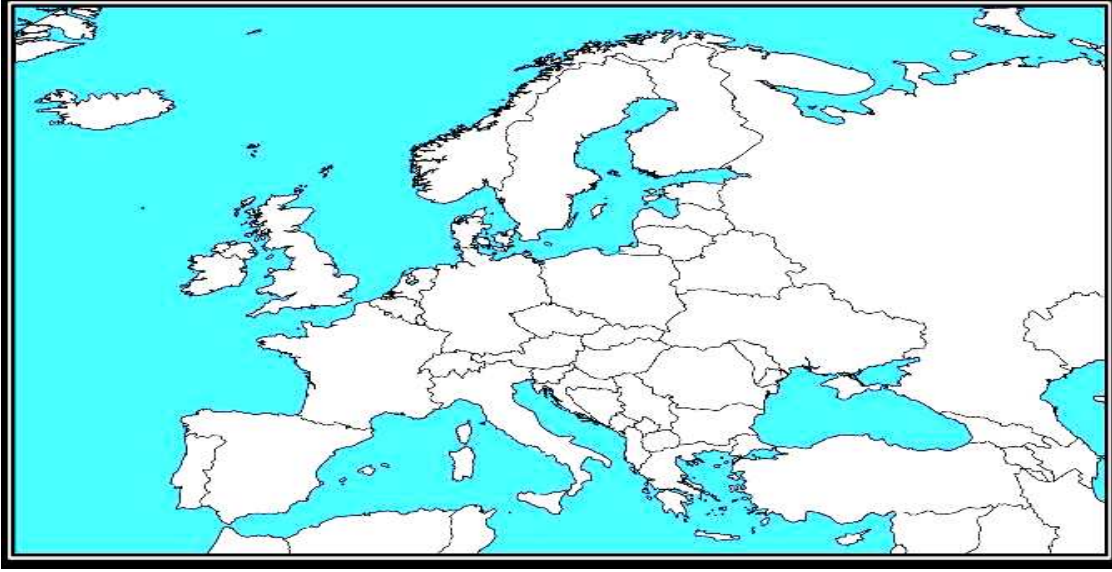
قارن بين اليمن وألمانيا بالاعتماد على الخرائط الآتية وأكمل الجدول الذي يليها:



م	أوجه المقارنة	اليمن	ألمانيا
١	تاريخ الوحدة		
٢	اسم دولة الوحدة		
٣	عاصمة الوحدة		
٤	ألوان علم الوحدة		
٥	حدود دولة الوحدة	من الشمال:..... من الجنوب:..... من الشرق:..... من الغرب:.....	من الشمال:..... من الجنوب:..... من الشرق:..... من الغرب:.....
٦	نظام الحكم السياسي لدولة الوحدة		



نشاط رقم (٩):

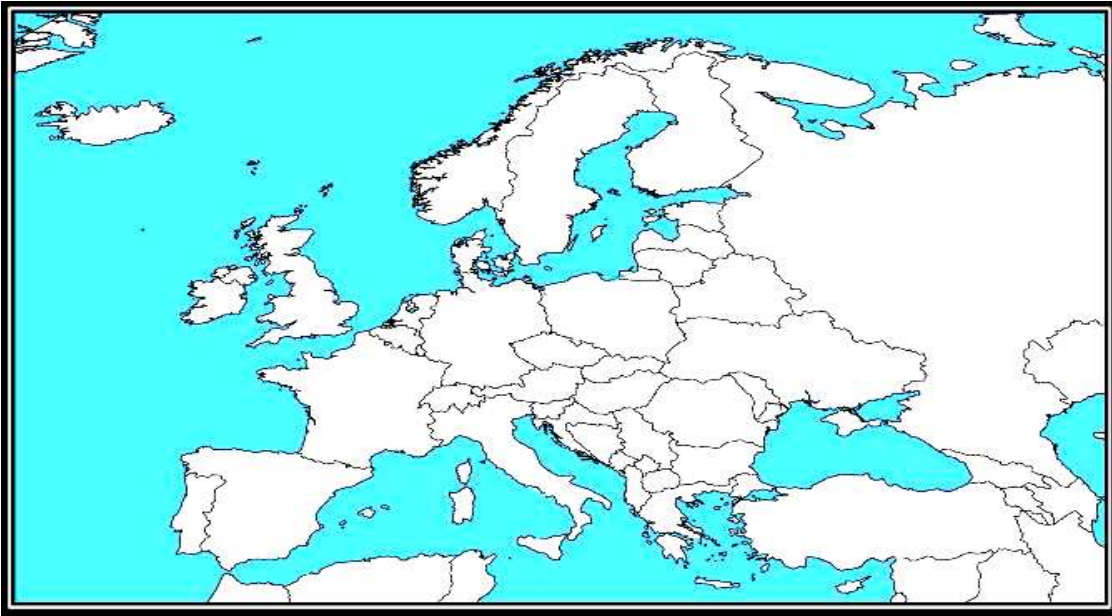


حدد على خارطة أوروبا الصماء ما يأتي:

- ١ - جبال الألب.
- ٢ - آيسلندا.
- ٣ - بحر البلطيق.
- ٤ - إيطاليا.
- ٥ - جزيرة صقلية.
- ٦ - مدينة باريس.
- ٧ - البرتغال.
- ٨ - بريطانيا.

نشاط رقم (١٠):

على خارطة أوروبا الصماء الآتية حدد بالألوان ما يأتي:



١. لون باللون الأحمر الدول التي قبل انتسابها إلى الاتحاد الأوروبي.
٢. لون باللون الأصفر الدول التي أقرت بالاتحاد ورفضت الانضمام إليه.
٣. لون باللون الأزرق الدول التي أعلنت الاتحاد عام ١٩٥٧م.



نشاط رقم (١) :

حدد الموقع الفلكي والجغرافي للقارات الآتية:

(١) أوروبا. (٢) أمريكا الشمالية. (٣) أمريكا الجنوبية.

أولاً : الموقع الفلكي :

الإحداثيات	أوروبا	أمريكا الشمالية	أمريكا الجنوبية
خطي طول			
دائري عرض			

ثانياً : الموقع الجغرافي :

الجهة	أوروبا	أمريكا الشمالية	أمريكا الجنوبية
الشمال			
الجنوب			
الشرق			
الغرب			

نشاط رقم (٢) :

حدد الموقع الجغرافي للدول الآتية:

(١) ألمانيا. (٢) أسبانيا. (٣) الولايات المتحدة الأمريكية.

الجهة	ألمانيا	أسبانيا	الولايات المتحدة
الشمال			
الجنوب			
الشرق			
الغرب			

نشاط رقم (٣) : أين توجد المناطق التالية حدد موقعها :

م	المنطقة	موقعها	م	المنطقة	موقعها
١	جزيرة صقلية ومالطة	جزيرة تسمانيا	١١		
٢	جزيرة آيسلندا	القوقاز	١٢		
٣	ألبانيا	جبال الروكي	١٣		
٤	جبال الأورال	التونديرا	١٤		
٥	مدينة موسكو	النباتات الشوكية	١٥		
٦	مدينة لندن	جبال الانديز	١٦		
٧	فهر الراين	الجبل الأبيض	١٧		
٨	بحر البلطيق	بحر النرويج	١٨		
٩	مدينة بيرث	جزر هاواي	١٩		
١٠	مدينة هامبورغ	مدينة كانبيرا	٢٠		

نشاط رقم (٤) :

أكمل الجدول الآتي بتحديد مناطق الكثافة السكانية في أمريكا الشمالية والجنوبية:

أمريكا الشمالية	أمريكا الجنوبية
مناطق الكثافة المرتفعة	
مناطق الكثافة المنخفضة	

نشاط رقم (٥) :

أكمل الجدول الآتي بما يناسبه من معلومات:

م	الدولة	المناخ	الديانة	اللغة	الموارد الطبيعية	أهم المدن
١	السويد					
٢	فرنسا					
٣	أسبانيا					
٤	تشيكيا					
٥	آيسلندا					
٦	الدانمارك					
٧	النرويج					

نشاط رقم (٦) :

بالاعتماد على خرائط الكتاب علل ارتفاع وقلعة الكثافة السكانية في كل مما يأتي:

سبب ارتفاع الكثافة السكانية فيها	المناطق المرتفعة الكثافة السكانية
	وسط أوروبا
	على طول نهر الراين في ألمانيا
	وسط المكسيك
	في جنوب شرق استراليا

سبب قلة وندرة السكان فيها	المناطق قليلة ونادرة الكثافة السكانية
	شمال قارتي أمريكا الشمالية وأوروبا
	وسط أمريكا الجنوبية
	في القطاع الأوسط والشمالى لأستراليا

