

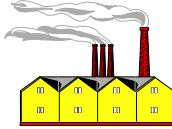


مدرسة سبعة بنت الجارث المتوسطة بنات


تدريبات الفتره الدراسيه الثالثه لصف السادس لمادة الاجتماعيات

السؤال الأول : ويتكون (أ - ب) :

أ: أكمل العبارات التالية بكلمات مناسبة مستعينة بالصور التي أمامك :



١ : تحويل مواد الخام إلى مواد مصنعة يستفاد منها تسمى



٢ : بدأ التنقيب (البحث) عن النفط في الكويت عام



٣ : الدولة المشار عليها في الخريطة هي الدولة الخليجية الأولى في إنتاج القمح



٤ : يحتل الكويت من حيث عدد السكان المركز بين دول الخليج العربية .



٥ : تعتبر شبه الجزيرة العربية ملتقى الهجرات الخارجية القادمة من أفريقيا وأوروبا وقارة

ب : ظللي الإجابة الصحيحة من بين البدائل التالية :

١ : تم تصدير أول شحنة من النفط عام :

١٩٤٨	١٩٤٧	١٩٤٦	١٩٤٥
------	------	------	------

٢ : من أهم المناطق الزراعية في دولة الكويت منطقة :

الشويخ	صباحان	كيفان	الوفرة
--------	--------	-------	--------

٣ : ذكرت آثار دلمون في دولة خليجية تسمى :

قطر	البحرين	الكويت	السعودية
-----	---------	--------	----------

٤ : الدولة الخليجية الأولى في عدد السكان :

الإمارات	السعودية	سلطنة عمان	الكويت
----------	----------	------------	--------

٥ : صحار منطقة صناعية في سلطنة عمان تشتهر بصناعة :

بتروكيماويات	الغاز	تكرير النفط	النحاس
--------------	-------	-------------	--------

السؤال الثاني : ويتكون (أ - ب - ج) :
أ: سجلي المصطلح المناسب أسفل كل عبارة : ص : ٨٧

إعادة تصدير البضائع المستوردة

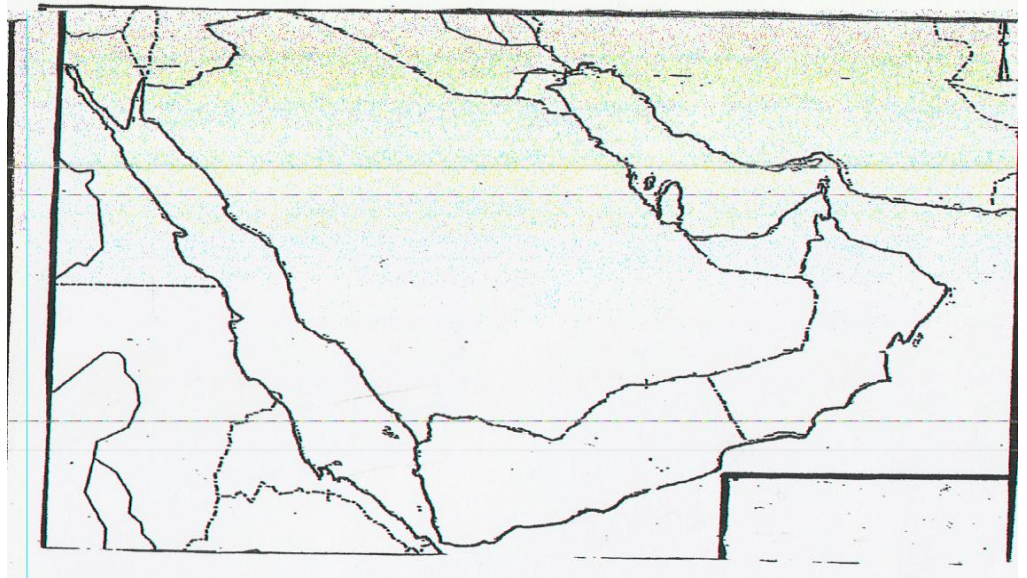
السلع والمنتجات التي تبيعها دولنا إلى الخارج .

البضائع والسلع التي تشتريها دولنا من الخارج .

ب : اختاري من المجموعة (أ) ما يناسبها من المجموعة (ب) بوضع الرقم المناسب في المكان المناسب :- ص : ٣٤

الرقم :	المجموعة (أ) :	الرقم المناسب :	المجموعة (ب) :
١	- سهل تهامة في المملكة العربية السعودية .	()	منطقة صناعية .
٢	- الشعبية في الكويت .	()	منطقة زراعية .
٣	- مبران في الإمارات العربية المتحدة .	()	حقل نفط .
		()	ميناء نفط .

ج : حوض الخليج العربي استقبل أصولا سكانية متنوعة من آسيا وأفريقيا وأوروبا سجليها على خريطة شبة الجزيرة العربية التالية :- ص : ٩٤



السؤال الثالث : ويتكون (أ - ب) :
أ : فسري المفاهيم التالية :

١ : الزيادة الطبيعية :

..... -

٢ : إنتاج النفط :

..... -

٣ : الدخل القومي :

..... -

٤ : الزراعة بدون تربة :

..... -

٥ : الثقافة :

..... -

ب: اكتب ما تعرفينه عن :

١ : أنواع المحاصيل الزراعية في دول مجلس التعاون الخليجي .

..... -

٢ : أهم الدول المستوردة للنفط الخليجي .

..... -

٣ : أهم الحقول النفطية في قطر .

..... -

٤ : العادات والتقاليد المشتركة بين دول الخليج العربية .

..... -


٥ : التاريخ المشترك بين دول الخليج .

..... -

السؤال الرابع : ويتكون (أ - ب) :
أ : أوجد حلا للمعادلات التالية :

$$\frac{\text{عدد السكان}}{\text{مساحة الدولة}} = \dots\dots\dots$$

$$\dots\dots\dots = \text{توفر فرص العمل} + \text{ارتفاع الأجور} + \text{الأمن والأمان}$$



$$\dots\dots\dots = \text{اللغة} + \text{العادات والتقاليد} + \text{التاريخ المشترك}$$

ب: لاحظي الصور وصنفيها بين صادرات وواردات بوضع الرقم في الجدول التالي :



٤ : منظفات

٣ : بنزين

٢ : أثاث

١ : صناعات تكرير نפט

- واردات :-	- صادرات :-

اعدادا المعلمه : ناديه الراشد