



تدريبات للصف السابع للفترة الدراسية الثالثة

▽ اكمل العبارات التالية بما يناسبها :-

- ✓ عدد دول الوطن العربي
- ✓ نسبة السكان في قارة إفريقيا
- ✓ نسبة السكان في قارة آسيا
- ✓ أكثر الدول العربية سكانا
- ✓ يقدر معدل النمو السنوي للسكان في الوطن العربي
- ✓ معدل النمو العالمي يقدر بحوالي
- ✓ نسبة القطاع الزراعي والقطاع الصناعي
- ✓ من العوامل الطبيعية للإنتاج الزراعي التربة و المناخ
- ✓ من العوامل البشرية للإنتاج الزراعي جهد الإنسان
- ✓ أهم المحاصيل الزراعية في الوطن العربي الحبوب الغذائية
- ✓ أهم المزروعات في الوطن العربي
- ✓ الدولة التي تحتل المركز الأول في إنتاج القمح والذرة والأرز
- ✓ الدولة التي تحتل المركز الأول في إنتاج الشعير
- ✓ الدولة التي تحتل المركز الأول في إنتاج الموز
- ✓ الدولة العربية التي تحتل المركز الأول في إنتاج التمور

- ✓ نسبة المساحة المزروعة في الوطن العربي
- ✓ نسبة المساحة القابلة للزراعة في الوطن العربي.....
- ✓ نسبة امتلاك الصومال من ثروة الإبل
- ✓ الدولة التي تساهم بإنتاج بأكثر من ثلث الإنتاج العربي من الأسماك
- ✓ أكثر الدول العربية إنتاجا واحتياطا للنفط
- ✓ أكثر الدول العربية في إنتاج واحتياط الغاز الطبيعي.....
- ✓ نسبة إنتاج موريتانيا من معدن الحديد

▽ اجيبى عما ياتى ::

- ✓ كيف تغلب الإنسان على صعوبة العيش فى الجبال
- ✓ لماذا تهتم الدول بمعرفة معدلات النمو
- ✓ أسباب هجرة الايدى العاملة من دول أسيا إلى بعض الدول العربية
- ✓ أسباب هجرة الايدى العاملة من الدول العربية إلى دول الخليج
- ✓ المناطق الزراعة في الوطن العربي
- ✓ انتشار زراعة النخيل في السعودية
- ✓ العوامل التي ساعدت على انتشار مزارع الدواجن فى الوطن العربي
- ✓ كيف يمكن تنمية الثروة السمكية
- ✓ أسباب تدهور الإنتاج السمكي في مياه الخليج العربي
- ✓ تتركز معظم الحقول النفطية في ثلاث مناطق
- ✓ مميزات النفط العربي

..... ✓
..... ✓
أنواع الصناعة في الوطن العربي ✓

..... ✓
..... ✓
أهداف الصناعة البتر كيمائية ✓

..... ✓
..... ✓
على لما ياتي .: ▽
عدم استغلال الاراضى الصالحة للزراعة ✓

..... ✓
..... ✓
تتركز زراعة الحمضيات والموالح في حوض البحر المتوسط ✓

..... ✓
..... ✓
تحتل الأغنام العربية مكانا ضمن الثروة الرعوية ✓

..... ✓
..... ✓
مساهمة المغرب بأكثر من ثلث الإنتاج العربي من الأسماك ✓

..... ✓
..... ✓
يعد النفط والغاز الطبيعي من أهم مصادر الطاقة ✓

..... ✓
..... ✓
يطلق على الغاز الطبيعي بالطاقة النظيفة ✓

..... ✓
..... ✓
ب - أكمل المخطط السهمي
✓ أهم المحاصيل الزراعية في الوطن العربي

..... ✓
..... ✓
المقومات الطبيعية للصناعة ✓

✓ المقومات البشرية للإنتاج الزراعي

.....

✓ المقومات الطبيعية للصناعة

.....

▽ قارنى بين كل من ::

وجه المقارنة	✓ أوبك	✓ أوابك
سنة التأسيس ✓ ✓
المقر ✓ ✓
الأهداف

وجه المقارنة	✓ الصناعات التحويلية	✓ الصناعات الإستخراجية
✓ المفهوم

▽ عرفي المفاهيم التالية:

✓ الغلات النقدية:

✓ الغاز الطبيعي:

✓ التعداد السكاني:

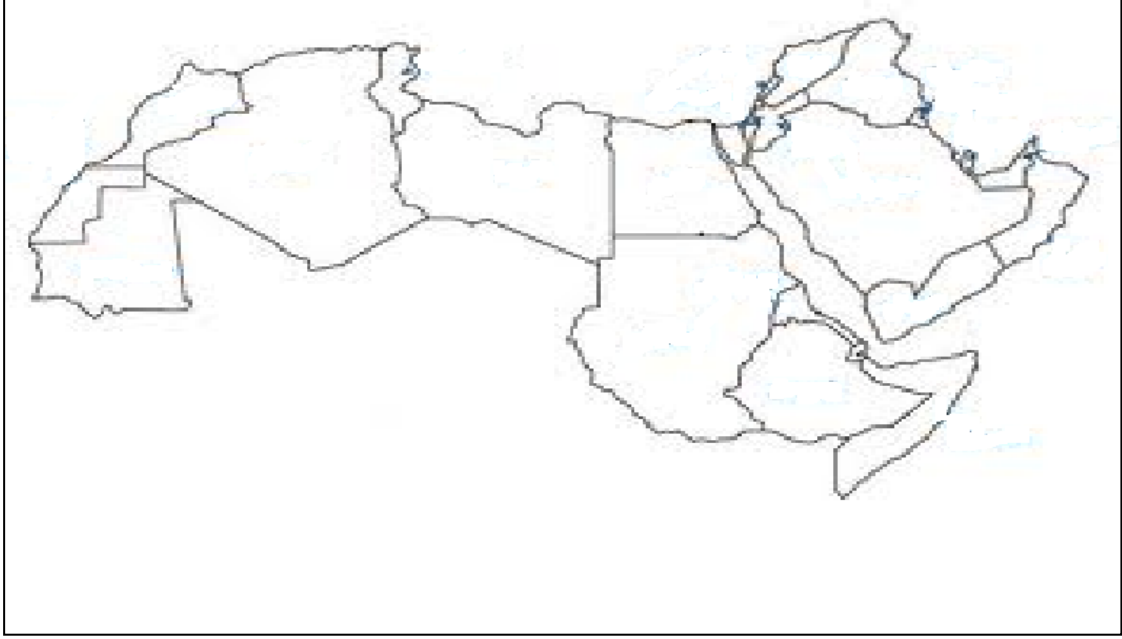
✓ الكثافة السكانية:

✓ الموارد الطبيعية:

✓ النفط:

✓ الطاقة:

▽ على خريطة الوطن العربية حددي ما يلي :



- ✓ الدولة التي تحتل المركز الأول من حيث إنتاج النفط.....
- ✓ ظلي الدولة التي تحتل المركز الأول من حيث المساحة في الجناح الآسيوي
- ✓ ضعي الرمز ○ على الدول التي تحتل المركز الأول من حيث عدد السكان
- ✓ أكتبي اسم الدولة التي اتخذت مقرا لمنظمة الأوابك.....
- ✓ ضعي الرمز + لدى الدولة التي تمتلك 6,6 % من ثروة الوطن من الإبل
- ✓ ضعي الرمز * على الدولة التي تساهم في ثلث الإنتاج العربي من الأسماك

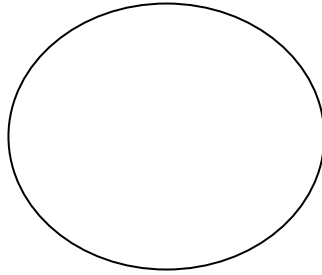
✓ الدولة تحتل المركز الأول من حيث المساحة في الجناح الأفريقي

.....

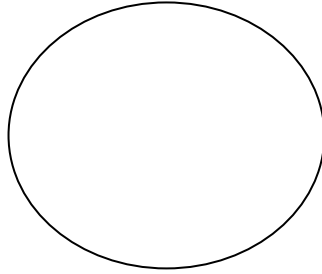
✓ الدولة التي تحتل المركز الأول في إنتاج البن.....

▽ اجيبي ثم مثلي النسب على دوائر بيانية :

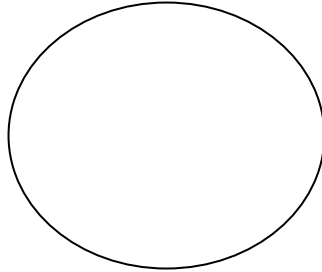
✓ نسبة القطاع الزراعي في الوطن العربي تبلغ.....%



✓ نسبة احتياطي النفط في الجناح الآسيوي تبلغ.....%



✓ نسبة نسبة إنتاج معدن الحديد في موريتانيا تبلغ.....%



إعداد المعلمة:
موضي المطيري

مع تمنيات قسم الإجتماعيات لكن بالتوفيق والنجاح

