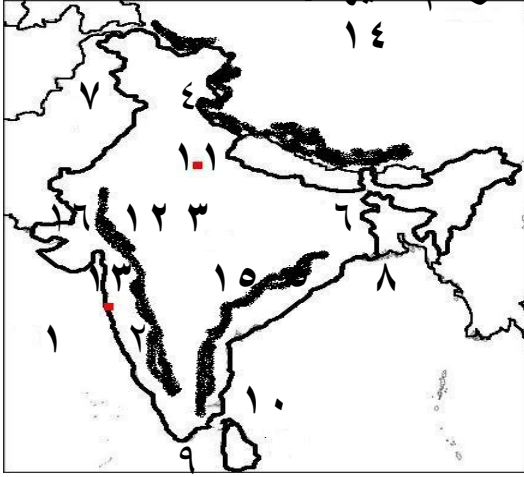
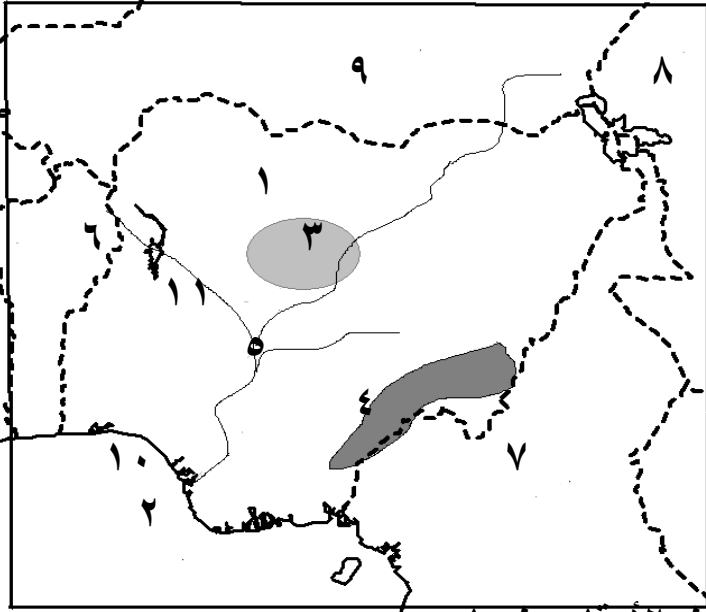


السؤال الأول [أ] امامك خريطة صماء للهند وضح مدلول الأرقام عليها :



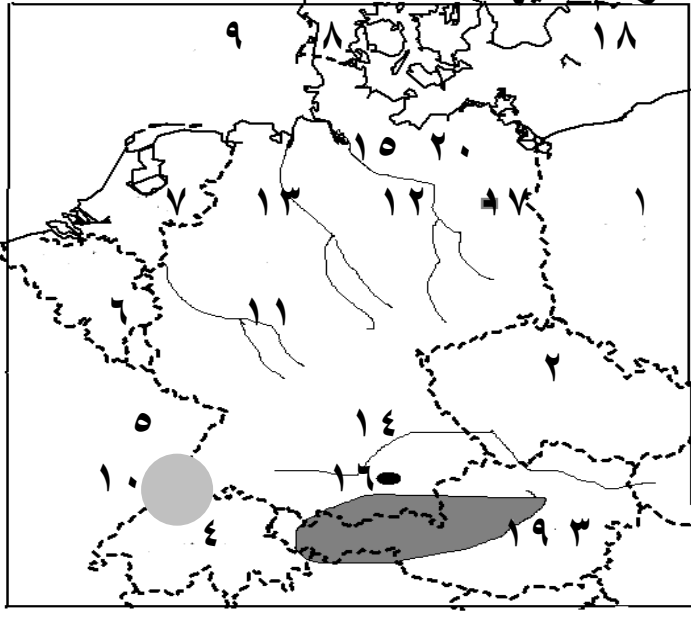
- ١- بحر العرب
- ٢- سهل ملبار
- ٣- هضبة الدكن
- ٤- جبال الهيمالايا
- ٥- سهل كروماندل
- ٦- نهر الجانج
- ٧- دولة باكستان
- ٨- خليج البنغال
- ٩- المحيط الهندي
- ١٠- جزيرة سيلان
- ١١- مدينة نيودلهي
- ١٢- مدينة حيدر أباد
- ١٣- ميناء بومباي
- ١٤- دولة الصين
- ١٥- جبال الغات الشرقية
- ١٦- جبال الغات الغربية

[ب] امامك خريطة صماء لدولة نيجيريا وضح مدلول الأرقام عليها :



- ١- مدينة أبوجا
- ٢- خليج غينيا
- ٣- هضبة جوس
- ٤- مرتفعات أوموسي
- ٥- نهر النيجر
- ٦- دولة بنين
- ٧- دولة الكاميرون
- ٨- دولة تشاد
- ٩- دولة النيجر
- ١٠- مدينة لاجوس
- ١١- مدينة إيبادان

[ج] امامك خريطة صماء لدولة ألمانيا وضح مدلول الأرقام عليها :



- ١- دولة بولندا
- ٢- دولة التشيك
- ٣- دولة النمسا
- ٤- دولة سويسرا
- ٥- دولة فرنسا
- ٦- دولة بلجيكا
- ٧- دولة هولندا
- ٨- دولة الدنمارك
- ٩- البحر الشمال
- ١٠- جبال الفوج
- ١١- نهر الراين
- ١٢- نهر الب
- ١٣- نهر فيرز
- ١٤- نهر الدانوب
- ١٥- مدينة هامبورج
- ١٦- مدينة ميونخ
- ١٧- مدينة برلين
- ١٨- البحر البلطي
- ١٩- جبال الألب
- ٢٠- السهل الألماني

المانيا	نيجيريا	الهند	
الموقع الفلكي	- تمتد بين دترتي عرض ٤ الى ١٤ شمالاً ( ١٠ درجات عرضية ) - تقع في وسط القارة الأوربية بين دائرتي عرض ( ٤٧.٣٠ الى ٥٥ شمالاً	- تمتد بين دائرتي عرض ٨ : ٣٥ شمالاً في ( ٢٧ دائرة عرض )	
الموقع الجغرافي	- تقع على خليج غينيا في النطاقات المدارية الحارة شمال خط الاستواء حتى دائرة عرض ١٢ شمالاً <b>انظر لخريطة</b>	<b>انظر لخريطة</b> - تقع دولة بنجلاديش بكاملها داخل حدود الهند ثاني العلم في السكان والسابعة من حيث المساحة	
المناخ	- تقع ضمن النطاق المداري الممطر صيفاً - تسقط أمطار طوال العام في أجزائها الجنوبية وترتفع درجة الحرارة حيث لا يقل المتوسط السنوي للحرارة عن ٢٠ درجة مئوية	- مناخ مداري حار * الامطار : - موسمية صيفية غزيرة : على منحدرات جبال الهيمالايا وسهول الجانج - شتوية : في أقصى الجنوب وفي الشمال الغربي	
النبات الطبيعي	- الغابات المدارية: تغطي بأشجارها المتشابكة الجزء الجنوبي - السافانا الطويلة : توجد في الشمال و تتناثر بها اشجار نخيل الزيت	- الغابات الموسمية : في الغرب والشمال اشجارها التيك ( الساج ) - المانجروف - جوز الهند - الحشائش القصيرة : في معظم هضبة الدكن	
الجبال	جبال الألب هي جزء من جبال الألب الأوربية - توجد بها أعلى القمم الجبلية بألمانيا	الهيمالايا في الشمال وبها أعلى قمم افرست التي تقع خارج حدود الهند جبال الغات الغربية وجبال الغات الشرقية	
الهضاب	هضاب متقطعة في المرتفعات لوسطية وتغطي هذه الهضاب بالغابات الصنوبرية	هضبة الدكن : تقع داخل الهند ممتدة في شكل مثلث	
سهول ساحلية	السهل الألماني الشمالي - يُعد من أكبر الأقاليم وهو جزء من السهل الأوربي العظيم	سهول كروماندل علي خليج البنغال - و سهول ملبار على بحر العرب والمحيط الهندي	
الأنهار	الأنهار الألب والراين وفيزر وتصب في بحر الشمال و البحر البلطي	سهول نهر الجانج بالشمال و يصب في خليج البنغال	
الزراعة	- نصف أراضيها خصبة والمساحة المستغلة لا تتجاوز ١٥ % - الإقليم الغربي أهم مناطق الإنتاج الزراعي - أكبر دول أفريقيا إنتاجاً للمطاط	أكبر دول العالم في إنتاج وتصدير الشاي والجوت	

المانيا	نيجيريا	الهند	
<p><b>تطور ت الصناعة بعد الحرب العالمية الثانية بسبب</b></p> <p>١- توافر المواد الخام ٢- وجود شبكة متقدمة للنقل والمواصلات ٣- تدفق الاستثمارات الوطنية والأجنبية. ٤- المراكز العلمية المتقدمة.</p>	<p>القصدير ويستخرج من هضبة جوس البتترول وتنتج نيجيريا منه كميات كبيرة، نحو ٣% من الإنتاج العالمي</p>	<p>الفحم وهي ثالث دول العالم إنتاجًا من هضبة الدكن ويعد أساس الصناعة خاصة الحديد والصلب. تفتقر الهند للبتترول فلجأت للطاقة النووية والكهربائية.</p>	<p><b>التعددين والطاقة</b></p>
<p>هي العمود الفقري للاقتصاد الألماني حيث يعمل بها نحو ١٤ مليون عامل يمثلون ثلث القوى العاملة ومتطورة</p>	<p>ليست متطورة ولا متنوعه</p>	<p>تطورت بسبب وفرة الأيدي العاملة والخبرات الفنية وفرة المواد الخام الطبيعية</p>	<p><b>الصناعة</b></p>
<p>- الألمان : الأغلبية الساحقة من السكان (حوالي ٧٥ مليونًا) - المهاجرون : يشكلون نسبة ٩% ومعظمهم من اليونان * مناطق تركيز السكان : ١- المناطق الصناعية مثل إقليم الرور. ٢- الأودية وعلى الأنهار ٣- المدن الكبرى</p>	<p>- في الغرب حيث الولاية الغربية وعاصمتها (أبدان). - في السهول الشمالية وفي هضبة جوس - يقل عدد السكان في دلتا النيجر</p>	<p>يتركز في السهول الساحلية خاصة الساحل الغربي وفي سهول الجانج وعلى طول الساحل الشرقي حيث المدن الرئيسية</p>	<p><b>السكان</b></p>
<p><b>برلين</b> - عاصمة ألمانيا السياسية للدولة <b>ميونخ</b> ١- عاصمة إقليم بافاريا جنوب ألمانيا ٢- ثالث أكبر مدن ألمانيا من حيث السكان البالغ ٢.٢ مليون ٣- إحدى أغنى مدن ألمانيا وأقواها اقتصادًا ٤- يوجد بها مقر عدد من الشركات والمصانع الألمانية المهمة أهمها شركة بي إم دبليو للسيارات. <b>هامبورج</b> - أهم موانئ ألمانيا وهي قريبة من بحر الشمال بحوالي ١٢٠ كم وعدد سكانها ٢ مليون نسمة .</p>	<p><b>ابوجا</b> العاصمة وهي مدينة داخلية حديثه <b>لاجوس</b> ١- العاصمة الاقتصادية ٢- أكثرها ازدحاماً بالسكان ٣- أكبر المدن النيجيرية <b>ايبادان</b> تأتي في المركز الثاني بعد لاجوس مركز للتجارة والتعليم والمواصلات.</p>	<p><b>نيودلهي</b> ١- العاصمة السياسية ٢- توجد بها الجامعات والمراكز الصناعية والمعالم التاريخية - يزيد سكانها على ٨ ملايين وتقع بين نهري الكانج والسند <b>بومباي</b> ١- العاصمة التجارية للهند ٢- أكبر الموانئ ٣- أكبر المدن الصناعية <b>حيدر أباد</b> ١- أكبر مراكز الصناعات اليدوية ٢- تضم العديد من المراكز الإسلامية ٣- تجمع بين الفن المعماري الجميل والمدينة الحديثة- توجد المدينة بهضبة الدكن</p>	<p><b>أهم المدن</b></p>
<p><b>علاقات ثقافية وعلمية بين مصر وألمانيا</b> ١- هيئة التبادل العلمي الألمانية ٢- الجامعة الألمانية بالقاهرة ٤- معهد الآثار الألماني <b>علاقات اقتصادية بين مصر وألمانيا</b> ١- تصدر إليها مصر البترول والغاز الطبيعي والملابس ٣- تستورد منها مصر صناعات كيميائية والآلات والسيارات</p>	<p>١- تصدر مصر لها الأسمدة والمعدات الثقيلة والأسلاك النحاسية والاطارات والمحولات الكهربائية ومواسير الألومنيوم . ٢- تستورد مصر منها السلع الزراعية وأهمها الحبوب الزيتية.</p>	<p>١- علاقات سياسية واقتصادية وثقافية وعلمية. ٢- تصدر مصر إلى الهند القطن والأسمدة الخام والمصنعة والبتترول والجلود ٣- تستورد مصر من الهند غزل القطن والسهمم والشاي والتوابل وقطع غيار وسائل النقل وغيرها</p>	<p><b>العلاقات مع مصر</b></p>

## بم تفسر

- ١- تقل درجة الحرارة في الهند كلما اتجهنا شمالاً - بسبب ارتفاع السطح وجبال الهيمالايا
- ٢- تركيز السكان في الهند في سهول الجانج وعلى الساحل الشرقي بسبب وجود المدن الرئيسية المزدهمة بالسكان مثل نيودلهي وبومباي
- ٣- تعاني الهند من المشكلة السكانية - بسبب زيادة نسبة المواليد
- ٤- توجد بالهند ثروة حيوانية ضخمة- بسبب كثرة المراعى .
- ٥- تعد الهند من الدول الرئيسية المنتجة للأسماك- لانها تطل على محيطات وخلجان هامة
- ٦- تفوق الهند في صناعة الحديد والصلب - بسبب زيادة انتاجها من الفحم الذى يعتبر اساس قيام صناعة الحديد والصلب
- ٧- لجوء الهند الى الطاقة النووية والكهربية- لانها تفتقر للبتروول ومصادر الطاقة الأخرى
- ٨- تطور الصناعة بالهند - بسبب توفر مقومات الصناعة المتمثلة فى الأيدى العاملة والخبرات الفنية والمواد الخام الطبيعية وغيرها من المقومات .
- ٩- ارتفاع كثافة السكان فى السهول الشمالية وفي هضبة جوس - لوجود الأراضي الزراعية والمراعى ومناطق التعدين.
- ١٠- قلة عدد السكان في دلتا النيجر- بسبب كثافة الغابات والظروف المناخية القاسية
- ١١- يعد اقتصاد نيجيريا اقتصاداً نامياً - لاعتماده على الزراعة في المقام الأول .
- ١٢- اهمية الغابات فى نيجيريا
- ١- تغطي الغابات مساحة واسعة ٢- وتعد مصدراً للأخشاب والكثير من المحاصيل الاستوائية مثل المطاط والكافور وزيت النخيل.
- ١٣- توجد أعداد كبيرة من الأبقار والأغنام والماعز فى نيجيريا- بسبب المراعى وحشائش السافانا
- ١٤- تنتج نيجيريا كميات من الأسماك- لانها تتمتع بساحل على خليج غينيا وبها أنهار وبحيرات
- ١٥- يعد السهل الساحلى فى شمال المانيا من المناطق الاقتصادية المهمة
- ١- تتركز به الزراعة ٢- توجد به المدن الرئيسية والتي أهمها برلين العاصمة وهامبورغ
- ١٦- تعد الزراعة من الأنشطة الاقتصادية الهامة فى المانيا
- ١- يعمل بها نحو ٣٠% من القوى العاملة ٢- تعتمد على التكنولوجيا الحديثة.
- ١٧- الصناعة العمود الفقري للاقتصاد الألماني - لان يعمل بها نحو ثلث القوى العاملة.
- ١٨- تطورالصناعة الألمانية بعد الحرب العالمية الثانية .
- ١- توافر المواد الخام مثل الفحم فى إقليم الرور والحديد. ٤- توافر المراكز العلمية المتقدمة.
- ٢- وجود شبكة متقدمة للنقل والمواصلات ٣- تدفق الاستثمارات الوطنية والأجنبية.
- ١٩- واجهت الهند الزيادة السكانية بسياسات تنمية مختلفة مثل :
  - ١- التوسع فى زراعة المحاصيل الغذائية ٢- تطوير الصناعات المختلفة
  - ٣- الأهتمام بالتعليم ومراكز البحوث العلمية

مع تمنياتنا بالتوفيق

اسرة الدراسات الاجتماعية بمدرسة محمد اسماعيل خليل الاعدادية