

الترتيب

الاسم /.....

التاريخ /.....

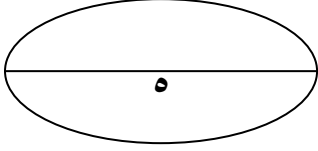
اليوم /.....

اختبار شهر أكتوبر في الدراسات الاجتماعية للصف السادس

أولا الجغرافيا

السؤال الأول :- ضع علامة (√) أو (×) مع تصويب الخطأ

- ١- من مشكلات البيئة الزراعية البطالة والامية ()
- ٢- أكبر عدد سكان البيئة الزراعية في الدلتا يعيشون في محافظة المنيا ()
- ٣- من الخصائص الاقتصادية للبيئة الزراعية ارتفاع مستوي دخل الفرد ()
- ٤- تصل نسبة الامية في ريف مصر الي ٥٠ % من سكان مصر ()

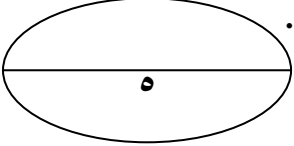


بم تفسر :- ندرة الحيوانات والنباتات الطبيعية في البيئة الزراعية

.....

السؤال الثاني :- أكمل العبارات الآتية

- ١- توجد البيئة الزراعية الفيضية في ثلاث مناطق هي و و
- ٢- يعتمد الإنسان في البيئة الزراعية بالوادي والدلتا ومنخفض الفيوم علي مياه في حين تعتمد في الواحات علي مياه
- ٣- من أنواع الهجرة هجرة و هجرة
- ٤- من العادات الايجابية في المجتمع الريفي و و



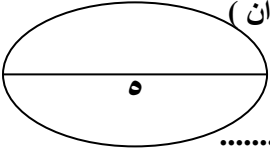
علل :- يعد منخفض الفيوم بيئة زراعية رغم وقوعه في الصحراء الغربية

.....

ثانيا التاريخ

السؤال الثالث :- اختر الإجابة الصحيحة مما بين القوسين

- ١- فتحت القسطنطينية عاصمة الدولة البيزنطية في عهد السلطان (سليم الأول - محمد الفاتح - بيازيد الثاني)
- ٢- امتدت الدولة المملوكية متضمنة الأجزاء العليا من بلاد (النوبة - الخليج العربي - شمال أفريقيا)
- ٣- ساعد في بناء القوة العسكرية المملوكية (المكوس - مساعدات الدول الخارجية - التقدم العلمي الأوربي)
- ٤- هزمت الجيوش المملوكية في يناير ١٥١٧ عند (الريدانية - مرج دابق - جالديران)



بم تفسر :- ازدهار الدولة المملوكية

.....

السؤال الرابع :- وضح مما يتكون كل مما يأتي

١- هيئات الحكم المحلية في مصر تحت الحكم العثماني

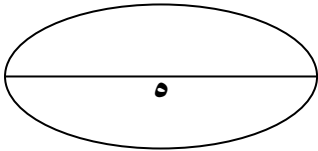
١- ٢- ٣-

٢- النظام الإداري في مصر تحت الحكم العثماني

١- ٢-

٣- القضاء والتشريع في مصر تحت الحكم العثماني

.....



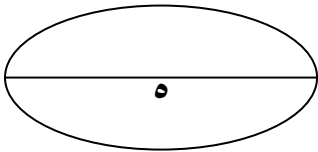
السؤال الخامس :- أعط تفسير للمفاهيم الآتية

١- قواد الحامية

٢- السناجق

٣- الملتزم

٤- قاضي القضاة



مع أطيب الأمنيات بالنجاح والتوفيق

أ/ محمد الططاوي

٠١٠١٦٥٥٤٦٨



This PDF was created using the Sonic PDF Creator.

To remove this watermark, please license this product at www.investintech.com