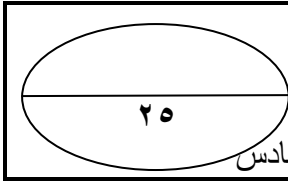


الاسم / الترتيب

التاريخ /

اليوم /



اختبار تجربة نصف العام في الدراسات الاجتماعية للصف السادس

أولا الجغرافيا : أمامك خريطة صماء لمصر أكتب مدلول الأرقام

(١) بحر.....

(٢) محافظة جذب سكاني

(٣) شبة جزيرة.....

(٤) بحيرة.....

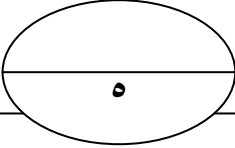
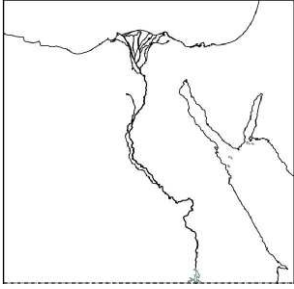
(ب) اكتب مدلول العبارات الآتية :

(١) قناة يتم حفرها عند مستوى أقل من منسوب الترعرع يتم به صرف المياه الزائدة علي الزراعة ()

(٢) يعني تقليل الاستهلاك والاستخدام الأمثل للموارد ()

(ج) بم تفسر : تعد القاهرة من أهم مناطق الجذب للمهاجرين من البيئة الزراعية

.....



السؤال الثاني : اختر الإجابة الصحيحة مما بين الأقواس

(١) أقرب المنخفضات الصحراوية لوادي النيل منخفض (الريان - الفيوم - القطارة - كل ما سبق)

(٢) أكبر عدد من سكان البيئة الزراعية بالدلتا يعيشون بمحافظة (أسيوط - كفر الشيخ - الشرقية - الغربية)

(٣) من الصناعات البسيطة (الفخار - السجاد اليدوي - حلج القطن - السيارات)

(٤) الظروف المناخية من عوامل قيام الصناعة (الطبيعية - البشرية - الطبيعية والبشرية معا - كل ما سبق)

علل: تلوث الماء وموت الأسماك في البيئة الصناعية

.....

ثانيا التاريخ : أكمل العبارات الآتية

(١) في عام ١٤٥٣ م فتح السلطان محمد الثاني القسطنطينية عاصمة الدولة

(٢) خرجت الحملة الفرنسية من ميناء طولون متجهة إلي جزيرة

(٣) ألغى نابليون بعد ثورة القاهرة الأولى

(٤) كان محمد علي نائب الفرقة في مصر ، ثم أصبح رئيسا لها

بم تفسر : خروج نابليون بحملته علي بلاد الشام ١٧٩٩ م

.....

السؤال الثاني : ضع علامة (ض) أو (ضض) مع تصويب الخطأ

(١) تحالف المماليك والمغول ضد العثمانيين ()

(٢) بعد عام ١٥١٧ أصبحت مصر ولاية عثمانية ()

(٣) كانت أول مواجهة بين الفرنسيين والمماليك في الرحمانية ()

(٤) بعد رحيل الفرنسيين ١٨٠١ م تولي محمد علي حكم مصر ()

أذكر سببا واحدا : ضعف الدولة المملوكية عسكريا

.....

السؤال الثالث : انسب كل الأعمال إلي صاحبه

(١) تأسيس الدولة العثمانية في أواخر القرن الثالث عشر الميلادي ()

(٢) كانت مهمتي تنفيذ أوامر السلطان العثماني بمصر ()

(ب) أكمل الجدول

الحدث	مولد محمد علي	موقعة الريدانية	موقعة عين جالوت
التاريخ	يناير ١٨٠٠	١٥١٤ م	أكتوبر ١٧٩٨

مع أطيب تمنياتي بالنجاح والتوفيق

أ/ محمد الططاوي

٠١٠١٦٥٥٤٦٨

