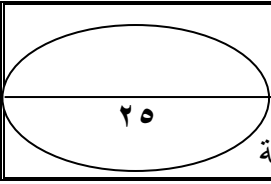


الترتيب

الاسم / .....

التاريخ / .....

اليوم / .....



اختبار تجربة نصف العام للصف الرابع في الدراسات الاجتماعية

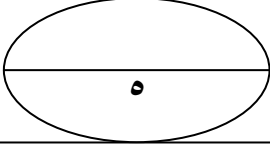
السؤال الأول : أكمل

١- فرع دمياط ورشيد يحصران بينهما .....

٢- أبحرت سفن الأسطول المصري في البحر المتوسط إلى بلاد .....

٣- الزيادة الطبيعية للسكان هي الفرق بين ..... و .....

٤- تعلم المصري القديم نحت الحجارة بدقة في العصر .....



السؤال الثاني : ضع علامة ( ض ) أمام الصواب وعلامة ( ضض ) أمام الخطأ

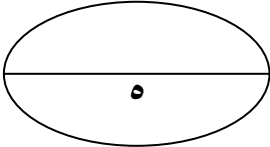
١- يطلق مصطلح المناخ على حالة الجو خلال ثلاثة أيام ( )

٢- تجاور مصر من الشمال الشرقي دولة سوريا ( )

٣- يزدحم السكان في المناطق الجبلية ( )

٤- مؤسس أول أسرة حاكمة في مصر القديمة هو نارمر ( )

٥- من أشهر جبال البحر الأحمر في مصر جبل الشايب ( )



السؤال الثالث : اختر الإجابة الصحيحة مما بين القوسين

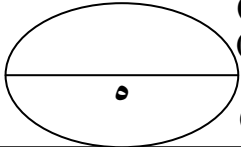
١- الخرائط والصور والرسوم تستخدم في تعلم ..... ( اللغة الإنجليزية - الدراسات الاجتماعية - اللغة العربية )

٢- ساعدت ..... على حماية مصر من الأطماع الاستعمارية ( الحدود - التضاريس - الموقع )

٣- يتزايد عدد السكان في المناطق الغنية بـ..... ( الأنهار - الأمطار - المياه الجوفية )

٤- كان شعاع مملكة الشمال ..... ( زهرة اللوتس - نبات البردي - زهرة القرنفل )

٥- من أكبر منخفضات مصر منخفض ..... ( الريان - القطارة - الفيوم )



السؤال الرابع : اكتب المصطلح العلمي الذي تدل عليه كل عبارة فيما يلي

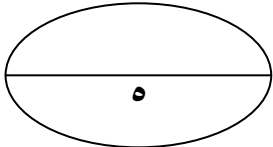
١- رسم توضيحي لجزء من سطح الأرض ويستخدم فيه الرموز والألوان ( )

٢- أحد الظواهر الطبيعية وجدت بين دولتين واتخذت كحدود ( )

٣- اعتقاد ديني عند المصريين القدماء ومعناه أن الإنسان يحيا بعد الموت ( )

٤- أرض مرتفعة شديدة الارتفاع ولها قمة ( )

٥- كل ما تركه الأجداد من أعمال وصور وأدوات ( )

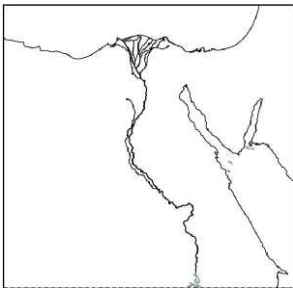


السؤال الخامس : أمامك خريطة لمصر وضع مدلول الأرقام

١- دولة .....

٢- البحر .....

٣- هضبة .....



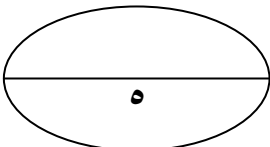
بم تفسر :

١- أسباب الهجرة الإجبارية

.....

٢- استقرار الإنسان المصري القديم على ضفاف النيل

.....



مع أطيب تمنياتي بالنجاح والتوفيق

أ/ محمد الططاوي

٠١٠١٦٥٥٤٦٨



This PDF was created using the Sonic PDF Creator.

To remove this watermark, please license this product at [www.investintech.com](http://www.investintech.com)