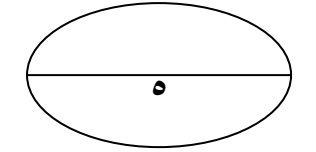


الاسم / .....  
 التاريخ / .....  
 اليوم / .....

الترتيب

اختبار شهر نوفمبر للصف الثاني الابتدائي



$$\begin{array}{r} \square + 8 \\ \square \\ \hline 6 \end{array}$$

$$407 - 330$$

$$75 - 38$$

$$583 + 364$$

$$57 + 47$$

السؤال الأول :- أوجد ناتج

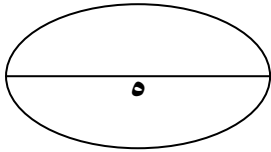
السؤال الثاني :-

رتب تنازلي ٥٨٢ ، ٨٢٥ ، ٢٥٨ ، ٥٢٨ ، ٢٨٥

الترتيب : .....

$$\square + \square + \square = 789$$

$$50 + 3 + 600 = \square$$

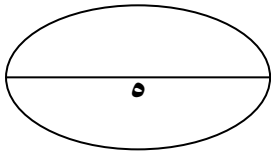


اكتب أربع مائة وسبعة عشر

$$\square = 392 \text{ مئاة } + \square \text{ آحاد } + \square \text{ عشرات}$$

السؤال الثالث :-

مع أحمد ١٠٥ قرشا صرف منها ٨٥ قرشا أوجد الباقي  
 الباقي مع أحمد =  -  =  قرشا



٨ ، ٠ ، ٣ كون أكبر عدد  كون أصغر عدد

$$\square + 70 = 475$$

٢٣٧ + ٤٦٢ = ..... الناتج أقرب إلي (٧٠٠ ، ٦٠٠ ، ٥٠٠)

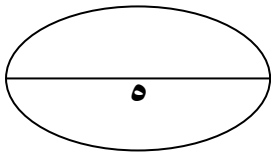
السؤال الرابع :- أكمل

١- أكمل التسلسل ٣٨٥ ،  ،  ،

٢- أكبر عدد مكون من ٣ أرقام مختلفة هو

٣- أصغر عدد مكون من ٣ أرقام مختلفة هو

٤- المائة أصغر عدد مكون من  أرقام



السؤال الخامس :-

اكتب ٦ مئاة + ٤ آحاد

$$627 > < = 672$$

٦٢٧

٣٩٩

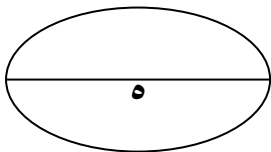
٤ مئاة

٨ مئاة

٨٠ عشرة

+ ٢٤٥

٧٥ + ٢٤٥



مع أطيب الأمنيات بالنجاح والتوفيق

أ / محمد الططاوي

٠١٠١٦٥٥٤٦٨



This PDF was created using the Sonic PDF Creator.

To remove this watermark, please license this product at [www.investintech.com](http://www.investintech.com)