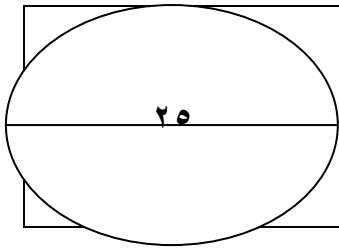


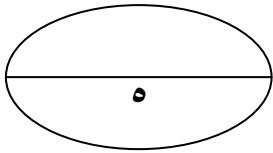
الاسم /
 التاريخ /
 اليوم /

الترتيب

اختبار شهر ديسمبر في الرياضيات للصف الأول
 الترم الأول



س ١ أوجد ناتج



..... = ٤ + ٣ + ٢

..... = ٢ + ٥

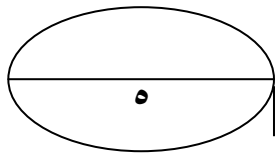
..... = ٢ + ١ + ٧

..... = ٣ + ٨

..... = ٩ + ٤

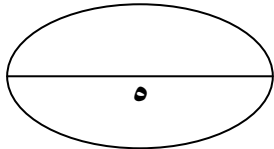
س ٢ رتب تصاعدي

٨ - ٩ - ٤ - صفر - ٧ - ٥ - ٢ - ١٠



- - - - - - -

س ٣ ضع علامة (+) أو (-) في المربع الخالي



٤ = ٣ ١

٧ = ٥ ٢

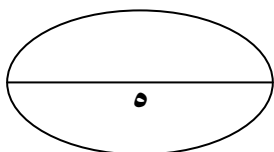
٥ = ٤ ٩

٣ = ٥ ٨

٣ = ١ ٤

س ٤ مع آية ١٠ جنيهات اشترت عروسة بمبلغ ٤ جنيهات فكم تبقي مع آية ؟

البقي = - = جنيهها



ضع علامة < أو > أو =

٤ + ٥

٤ + ٣



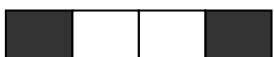
٢ + ٦

١ - ٩

ربع

نصف

أكتب اسم الشكل المظلل



.....

.....

.....

.....

