




وزارة التربية  
منطقة العاصمة التعليمية



وزارة التربية  
منطقة العاصمة التعليمية




اختبار الفترة الدراسية الرابعة للعام الدراسي (٢٠١٢/٢٠١٣) م

المرحلة المتوسطة

hdmishschool.com

رقم السؤال	الدرجة	المصحح	المراجع
السؤال الأول			
السؤال الثاني			
السؤال الثالث			
السؤال الرابع			
السؤال الخامس			
السؤال السادس			
السؤال السابع			
السؤال الثامن			
السؤال التاسع			
السؤال العاشر			
المجموع			

\*\* الدرجة بالحروف : .....



وزارة التربية

امتحان الفترة الدراسية الرابعة

المجال الدراسي : الاجتماعيات

الإدارة العامة لمنطقة العاصمة التعليمية

للفيف التاسع

الزمن : ساعة وخمس وأربعون

التوجيه الفني للاجتماعيات

للعام الدراسي ٢٠١٢/٢٠١٣م

عدد الأوراق ( ٥ )

**السؤال الأول : ويتكون من ( أ ، ب ) :-**  
**(أ) أكمل العبارات التالية بما يناسبها :-**

١- حصلت جمهورية الهند على استقلالها في عام .....

٢- توظيف الفائض من الأموال الناتج عن زيادة دخل الدولة يسمى .....

٣- الدولة التي عقد فيها مؤتمر قمة الأرض عام ٢٠٠٢م تسمى .....

٤- مرض يسببه فيروس يؤدي إلى ضعف المناعة المكتسبة في جسم الإنسان يسمى .....

٥- يبلغ عدد قضاة محكمة العدل الدولية ..... قاضيا .

**(ب) اختر الإجابة الصحيحة من بين البدائل التي تلي كل عبارة مما يلي بوضع خطا تحتها :-**

١- من مصادر الطاقة غير المتجددة :


د- الأمواج

ج- الرياح

ب- الغاز

أ- الشمس

٢- شعار هيئة الأمم المتحدة من بين الشعارات التالية يمثله الحرف :



د-



ج-



ب-



أ-

٣- احدى الدول الثمانية العظمى اقتصاديا في العالم من بين الدول التالية :

د- الأرجنتين

ج- الصين

ب- اسبانيا

أ- كندا

٤- الحرفة الرئيسية في الهند تسمى :

د- الزراعة

ج- الرعي

ب- الصناعة

أ- التجارة

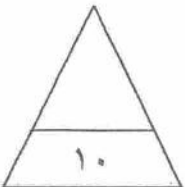
٥- انضمت دولة الكويت لمنظمة الأمم المتحدة في عام :

د- ١٩٦٤م

ج- ١٩٦٣م

ب- ١٩٦٢م

أ- ١٩٦١م



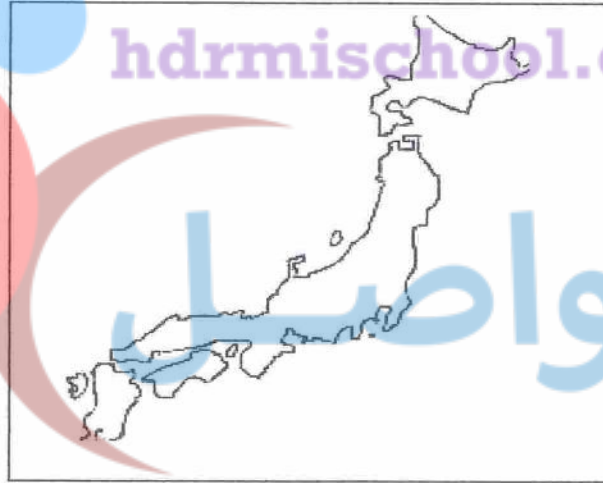
السؤال الثاني : ويتكون من ( أ ، ب ) :-  
(أ) حدد المطلوب بين القوسين كتابة في المكان الصحيح على الخرائط التالية :-



دولة مجاورة للهند ( الصين )



مسطح مائي ( المحيط الهادي )

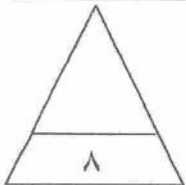


مدينة يابانية ( هوكايدو )  
**مدرسة الهلال بن الحضرمي**

(ب) صنف المظاهر التضاريسية التالية حسب مكانها الصحيح في الجدول التالي :-

( جبال روكي - مرتفعات اسكندنافيا - سهل اللانوس - هضبة التبت - صحراء كلاهاري )

أمريكا الجنوبية	أمريكا الشمالية	أوروبا	أفريقيا	آسيا





السؤال الثالث : ويتكون من ( أ ، ب ) :-

(أ) أكتب أسماء الشخصيات التي تدل عليها العبارات التالية :-



أنا أحد الرحالة ، خرجت بأسطول بحري وأبحرت فيه حول رأس الرجاء الصالح حتى وصلت إلى كلكتا في الهند وذلك في عام ١٤٩٨ م .



أنا الذي اخترع أحد وسائل الاتصال وهو الهاتف وذلك في القرن التاسع عشر الميلادي .

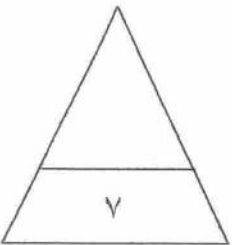


أنا أحد الزعماء الذين لقبوا بالدكتاتوريين سعيت لإعادة العظمة إلى روما ، فقررت التسلح لإحياء أمجاد الإمبراطورية الرومانية .



(ب) صحح ما تحته خط في العبارات التالية بكتابة البديل الصحيح بين القوسين :-

- ١- البرازيل ثاني أكبر البلدان في العالم من حيث التعداد السكاني . ( ..... )
- ٢- تمتد أراضي اليابان بين دائرتي عرض ٢٦ إلى ٥٨ شمال خط الاستواء . ( ..... )
- ٣- الديمقراطية كلمة ألمانية تعني شكلا من أشكال السلطة . ( ..... )
- ٤- اتخذت منظمة الأمم المتحدة من مدينة واشنطن مقرا دائما لها . ( ..... )



السؤال الرابع : ويتكون من ( أ ، ب ) :-

(أ) ما النتائج المترتبة على كل من :-

(١) مؤتمر الصلح بقصر فرساي في باريس عام ١٩١٩ م .

أ-

ب-

(٢) تآكل طبقة الأوزون الجوية .

أ-

ب-

(ب) اقرأ الفقرة التالية ثم أجب عن الأسئلة التي تليها :-

(( ..... ))

( تعد أصغر قارات العالم من حيث المساحة ، ولا يزيد عدد سكانها عن ٢٠ مليون نسمة ، وتقع ضمن الدول

الأوقيانوسية ، وتتميز بتنوع الأقاليم المناخية فيها مما سمح بتعدد أنشطتها الاقتصادية لا سيما الزراعية

منها وتعتبر سيدني من أشهر مدنها ، وقد حصلت هذه الدولة على استقلالها عام ١٩٤٢ م . )

(١) ضع عنوانا مناسباً للفقرة السابقة في أعلاها بين الأقواس .

(٢) عرف ما تحته خط في الفقرة السابقة .

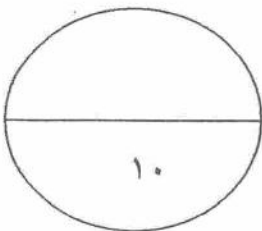
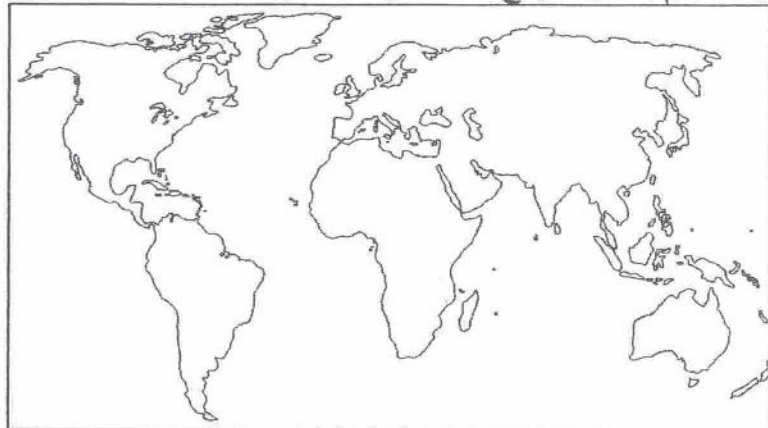
(٣) أذكر أهم الملامح التضاريسية للقارة التي نتحدث عنها الفقرة .

(٤) ما الأنشطة الاقتصادية في هذه الدولة ؟

\*

\*

(٥) ظلل على خريطة العالم التالية موقع هذه الدولة .



السؤال الخامس : ويتكون من ( أ ، ب ، ج ) :-

(أ) قارن بين الحرب العالمية الأولى والثانية حسب الجدول التالي :-

وجه المقارنة	الحرب العالمية الأولى	الحرب العالمية الثانية
الفترة الزمنية	..... م إلى ..... م	..... م إلى ..... م
عدد الدول المشتركة		
السبب المباشر		

(ب) أذكر اثنين لكل مما يلي :-

(١) العوامل التي يقوم عليها الإنتاج .

..... \*

(٢) شروط الانضمام لعضوية الأمم المتحدة .

..... \*

(ج) اقرأ الحوار التالي مع أحد المسؤولين في الصندوق الكويتي للتنمية ثم أجب عن الأسئلة التي تليه :-

المذيع : ما الاسم الرسمي لهذه المؤسسة ؟ المسؤول : ( الصندوق الكويتي للتنمية الاقتصادية ) .

المذيع : حدثنا عن نشاط هذه المؤسسة . المسؤول : أنشأت هذه المؤسسة في عام ١٩٦١م وذلك بهدف

مساعدة الدول النامية في تحقيق تقدمها من خلال تقديم القروض لها .

المذيع : ما الدول التي يمولها الصندوق ؟ المسؤول : عديدة ومنها الدول العربية ٥٤% وشرق وجنوب

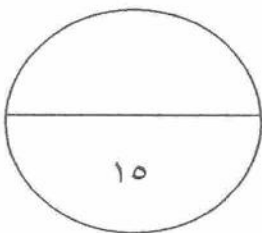
آسيا ١٩% وغرب أفريقيا ١٠% .

المذيع : شكرا على الاستضافة وإلى اللقاء . المسؤول : إلى اللقاء .

(١) عرف ما بين القوسين في الحوار السابق .

(٢) أذكر أنواع أنشطة الصندوق .

(٣) حول النسب التي ورد ذكرها في الحوار إلى أعمدة بيانية في الشكل التالي :







وزارة التربية

الإدارة العامة لمنطقة العاصمة التعليمية

أ. ج. ع. م. س.

hdrmishool.com

تواصل

مدرسة العلاء بن الحضرمي

الأحاديث

المجال الدراسي : الاجتماعيات	امتحان الفترة الدراسية الرابعة	وزارة التربية
الزمن : ساعة وخمس وأربعون	للف الصف التاسع	الإدارة العامة لمنطقة العاصمة التعليمية
عدد الأوراق ( ٥ )	للعام الدراسي ٢٠١٢/٢٠١٣م	التوجيه الفني للاجتماعيات

**السؤال الأول : ويتكون من ( أ ، ب ) :-**  
**(أ) أكمل العبارات التالية بما يناسبها :-**

- ١- حصلت جمهورية الهند على استقلالها في عام ١٩٤٧م . ص ٨٨
  - ٢- توظيف الفائض من الأموال الناتج عن زيادة دخل الدولة يسمى الاستثمار . ص ١٠٨
  - ٣- الدولة التي عقد فيها مؤتمر قمة الأرض عام ٢٠٠٢م تسمى جنوب إفريقيا . ص ١٣٥
  - ٤- مرض يسببه فيروس يؤدي إلى ضعف المناعة المكتسبة في جسم الإنسان يسمى الايدز . ص ١٣٦
  - ٥- يبلغ عدد قضاة محكمة العدل الدولية ١٥ قاضيا . ص ١٢٨
- (ب) اختر الإجابة الصحيحة من بين البدائل التي تلي كل عبارة مما يلي بوضع خطا تحتها :-**

- ١- من مصادر الطاقة غير المتجددة : ص ١٢٩
 

أ- الشمس	ب- الغاز	ج- الرياح	د- الأمواج
----------	----------	-----------	------------
- ٢- شعار هيئة الأمم المتحدة من بين الشعارات التالية يمثل الحرف : ص ١٢٨



- ٣- احدى الدول الثمانية العظمى اقتصاديا في العالم من بين الدول التالية : ص ١٣٥
 

أ- كندا	ب- اسبانيا	ج- الصين	د- الأرجنتين
---------	------------	----------	--------------
- ٤- الحرفة الرئيسية في الهند تسمى : ص ٩٠
 

أ- التجارة	ب- الصناعة	ج- الرعي	د- الزراعة
------------	------------	----------	------------
- ٥- انضمت دولة الكويت لمنظمة الأمم المتحدة في عام : ص ١٤٣
 

أ- ١٩٦١م	ب- ١٩٦٢م	ج- ١٩٦٣م	د- ١٩٦٤م
----------	----------	----------	----------



السؤال الثاني : ويتكون من ( أ ، ب ) :-


(أ) حدد المطلوب بين القوسين كتابة في المكان الصحيح على الخرائط التالية :-  $3 \times 1 = 3$  درجات



دولة مجاورة للهند ( الصين ) ص ٩١



مسطح مائي ( المحيط الهادي ) ص ٨١

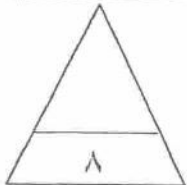


مدينة يابانية ( هوكايدو ) ص ٩٤

(ب) صنف المظاهر التضاريسية التالية حسب مكانها الصحيح في الجدول التالي :-  $5 \times 1 = 5$  درجات

( جبال روكي - مرتفعات اسكندنافيا - سهل اللانوس - هضبة التبت - صحراء كلاهاري ) ص ٧٩ - ٨١

آسيا	أفريقيا	أوروبا	أمريكا الشمالية	أمريكا الجنوبية
هضبة التبت	صحراء كلاهاري	مرتفعات اسكندنافيا	جبال روكي	سهل اللانوس



السؤال الثالث : ويتكون من ( أ ، ب ) :-

(أ) أكتب أسماء الشخصيات التي تدل عليها العبارات التالية :-  $3 \times 1 = 3$  درجات

أنت: فاسكودي جاما



ص ٨٩

أنا أحد الرحالة ، خرجت بأسطول بحري وأبحرت فيه حول رأس الرجاء الصالح حتى وصلت إلى كلكتا في الهند وذلك في عام ١٤٩٨ م .



أنت: ألكسندر غراهام بل



ص ٩٥

أنا الذي اخترع أحد وسائل الاتصال وهو الهاتف وذلك في القرن التاسع عشر الميلادي .



أنت :  
موسوليني



ص ١٢٢

أنا أحد الزعماء الذين لقبوا بالدكتاتوريين سعيت لإعادة العظمة إلى روما ، فقررت التسليح لإحياء أمجاد الإمبراطورية الرومانية .



(ب) صحح ما تحته خط في العبارات التالية بكتابة البديل الصحيح بين القوسين :-  $4 \times 1 = 4$  درجات

- ١- البرازيل ثاني أكبر البلدان في العالم من حيث التعداد السكاني . ( الهند ص ٩٠ )
- ٢- تمتد أراضي اليابان بين دائرتي عرض ٢٦ إلى ٥٨ شمال خط الاستواء . ( ٤٦ ص ٩٢ )
- ٣- الديمقراطية كلمة ألمانية تعني شكلا من أشكال السلطة . ( يونانية ص ١٠٤ )
- ٤- اتخذت منظمة الأمم المتحدة من مدينة واشنطن مقرا دائما لها . ( نيويورك ص ١٢٨ )

السؤال الرابع : ويتكون من ( أ ، ب ) :-

(أ) ما النتائج المترتبة على كل من :-  $2 \times 2 = 4$  درجات

(١) مؤتمر الصلح بقصر فرساي في باريس عام ١٩١٩م . ص ١١٩

أ- اختفاء أربع امبراطوريات عريقة (الألمانية - الروسية - النمساوية - التركية) .

ب- فرض غرامة مالية كبيرة على الدول المهزومة . / فرض قيود على الجيش الألماني من حيث العدد والتسلح وتجريدها من كافة مستعمراتها وفقدانها لأجزاء من أراضيها .

(٢) تأكل طبقة الأوزون الجوية . ص ١٣٤

أ- ارتفاع درجة حرارة الجو المحيط بالكرة الأرضية .

ب- ارتفاع نسبة الإصابة بالأمراض الجلدية والعيون / إتلاف الغطاء النباتي وانخفاض إنتاجية المحاصيل.

(ب) اقرأ الفقرة التالية ثم أجب عن الأسئلة التي تليها :-

(( استراليا / أو ما يراه المصحح مناسباً ))

( تعد أصغر قارات العالم من حيث المساحة ، ولا يزيد عدد سكانها عن ٢٠ مليون نسمة ، وتقع ضمن الدول

الأوقيانوسية ، وتتميز بتنوع الأقاليم المناخية فيها مما سمح بتعدد أنشطتها الاقتصادية لا سيما الزراعية

منها وتعتبر سيدني من أشهر مدنها ، وقد حصلت هذه الدولة على استقلالها عام ١٩٤٢م . )

(١) ضع عنواناً مناسباً للفقرة السابقة في أعلاها بين الأقواس . ص ٨٤ (درجة)

(٢) عرف ما تحته خط في الفقرة السابقة . ص ٨٥ (درجة)

قارة استراليا والجزر المحيطة بها .

(٣) أذكر أهم الملامح التضاريسية للقارة التي نتحدث عنها الفقرة . ص ٨٥ (درجة) يكتفى بنقطة واحدة

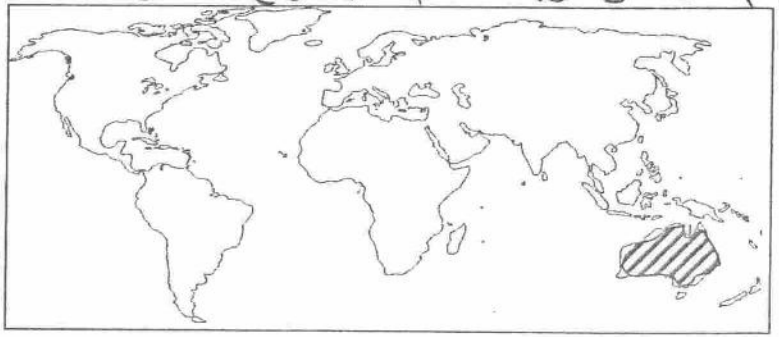
المرتفعات الشرقية / الهضبة الغربية (يغلب عليها الطبيعة الصحراوية وتكثر فيها البحيرات المالحة

والسبخات) / توجد بها أضخم صخرة في العالم / يوجد بها أكبر حاجز مرجاني .

(٤) ما الأنشطة الاقتصادية في هذه الدولة ؟ ص ٨٧ (درجتان) يكتفى بنقطتين

\* الثروة الرعوية (إنتاج الصوف) \* إنتاج المحاصيل الزراعية / الصيد البحري / السياحة / التكنولوجيا والصناعة

(٥) ظلل على خريطة العالم التالية موقع هذه الدولة . ص ٨٥ (درجة)





السؤال الخامس : ويتكون من ( أ ، ب ، ج ) :-

(أ) قارن بين الحرب العالمية الأولى والثانية حسب الجدول التالي :-  $3 \times 2 = 6$  درجات

وجه المقارنة	الحرب العالمية الأولى	الحرب العالمية الثانية
الفترة الزمنية	١٩١٤ م إلى ١٩١٨ م ص ١١٦	١٩٣٩ م إلى ١٩٤٥ م ص ١٢٥
عدد الدول المشتركة	٣٣ ص ١١٧	٦٢ ص ١٢٤
السبب المباشر	قيام طالب صربي باغتيال ولي عهد النمسا في مدينة سراييفو .	سياسة هتلر التوسعية في أوروبا وأهمها الاستيلاء على ممر دانزج البولندي .

(ب) أذكر اثنين لكل مما يلي :-

(١) العوامل التي يقوم عليها الإنتاج . ص ١٠٧ (درجتان) يكتفى بنقطتين

\* العمل \* رأس المال / الموارد الطبيعية / التنظيم الإداري

(٢) شروط الانضمام لعضوية هيئة الأمم المتحدة . ص ١٢٧ (درجتان) يكتفى بنقطتين

\* أن تكون الدولة مستقلة \* أن تكون الدولة محبة للسلام / أن تتعهد بتنفيذ قوانين هيئة الأمم المتحدة .

(ج) اقرأ الحوار التالي مع أحد المسؤولين في الصندوق الكويتي للتنمية ثم أجب عن الأسئلة التي تليه :-

المذيع : ما الاسم الرسمي لهذه المؤسسة ؟ المسؤول : ( الصندوق الكويتي للتنمية الاقتصادية ) .

المذيع : حدثنا عن نشاط هذه المؤسسة . المسؤول : أنشأت هذه المؤسسة في عام ١٩٦١م وذلك بهدف

مساعدة الدول النامية في تحقيق تقدمها من خلال تقديم القروض لها .

المذيع : ما الدول التي يمولها الصندوق ؟ المسؤول : عديدة ومنها الدول العربية ٥٤% وشرق وجنوب

آسيا ١٩% وغرب أفريقيا ١٠% .

المذيع : شكرا على الاستضافة وإلى اللقاء . المسؤول : إلى اللقاء .

(١) عرف ما بين القوسين في الحوار السابق . ص ١٤٤ (درجة)

مؤسسة اقتصادية أنشأتها دولة الكويت في ديسمبر عام ١٩٦١م لتوزيع المعونات المالية والفنية المقدمة للدول النامية .

(٢) أذكر أنواع أنشطة الصندوق . ص ١٤٤ (درجتان)

\* تقديم القروض للدول النامية . \* تقديم المنح على سبيل المعونة الفنية .

(٣) حول النسب التي ورد ذكرها في الحوار إلى أعمدة بيانية في الشكل التالي : ص ١٤٥ درجتان

(نصف درجة لكل عامود + نصف درجة للمحاور)

